



**UJIAN SEKOLAH
SEKOLAH LUAR BIASA
MAITRI SCHOOL
TAHUN PELAJARAN 2021/2022**

Mata Pelajaran : Seni Budaya
Hari / Tanggal : Selasa/ 15 Maret 2022
Waktu : 11.30 – 13.30

Nama :
Jenjang : SMALB
Kelas : XII (Dua belas)
NIS :


PETUNJUK


1. Berdo'alah sebelum mengerjakan soal !
2. Tulislah namamu di sudut kanan atas !
3. Bacalah soal dengan teliti, lalu kerjakanlah terlebih dahulu soal yang lebih mudah !
4. Tulisan hendaknya bersih, jelas, mudah dibaca, dan tidak menggunakan tip-ex !
5. Periksa sekali lagi hasil pekerjaanmu sebelum diserahkan kepada pengawas !

Nilai	Paraf

I. Berilah tanda silang (X) pada huruf A, B, C atau D di depan jawaban yang paling tepat !

1.  Gambar di samping merupakan contoh tanaman . . .
A. eceng gondok
B. teratai
C. tembakau
D. kenanga
2.  Gambar di samping merupakan contoh tanaman . . .
A. pakis
B. pinus
C. lidah buaya
D. keladi
3.  Gambar di samping merupakan contoh tanaman . . .
A. pinus
B. tebu
C. akasia
D. bambu

4.  Gambar di samping merupakan contoh tanaman
- A. kantong semar
 - B. rafflesia arnoldi
 - C. cendana
 - D. akasia

5.  Gambar di samping merupakan contoh tanaman
- A. kantong semar
 - B. rafflesia arnoldi
 - C. cendana
 - D. akasia

6. Di bawah ini yang merupakan ciri-ciri **kantong semar** adalah
- A. memiliki bau yang tidak sedap
 - B. memiliki kantong penangkap serangga
 - C. hidup di daerah perairan
 - D. memiliki buah yang rasanya manis
7. Di bawah ini yang merupakan **jenis tanaman langka** yang dilindungi adalah
- A. bunga teratai
 - B. rafflesia arnoldi
 - C. pohon jati
 - D. pohon keladi
8. Di bawah ini yang merupakan **manfaat pohon bambu** adalah
- A. sebagai bahan dasar pembuatan bilik pada rumah tradisional
 - B. sebagai bahan dasar pembuatan ketupat
 - C. daunnya digunakan untuk membuat ketupat
 - D. daunnya digunakan sebagai makanan pokok
9. Di bawah ini yang merupakan **manfaat pohon jati** adalah
- A. sebagai makanan pokok
 - B. sebagai bahan pembuatan pintu
 - C. sebagai tanaman hias di rumah
 - D. sebagai bahan dasar bilik rumah tradisional
10. Habitat yang sesuai bagi tumbuhan **eceng gondok** adalah
- A. danau
 - B. gurun pasir
 - C. tanah
 - D. pantai

11. Tumbuhan yang dapat **tumbuh di daerah dataran tinggi** adalah
- A. tembakau
 - B. kurma
 - C. stroberi
 - D. rumput laut

Bengkok dimakan api, apinya cang curupan

12. Potongan lirik di atas berasal dari lagu
- A. Halo-halo Bandung
 - B. Ampar ampar pisang
 - C. Indonesia Pusaka
 - D. Indonesia Raya
13. Alat musik yang ditiup adalah
- A. gitar
 - B. dram
 - C. trompet
 - D. angklung
14. Tarian kreasi yang menggunakan piring adalah
- A. tari ondel-ondel
 - B. tari Sajojo
 - C. tari piring
 - D. tari gundul-gundul pacul
15. Di bawah ini yang merupakan gambar **tarian kuda lumping** adalah

A.



C.



B.



D.



16. Di bawah ini yang merupakan gambar **tarian merak** adalah

A.



C.



B.



D.



17. Di bawah ini yang merupakan gambar **tarian cendrawasih** adalah

A.



C.



B.



D.



18.



Gambar di samping merupakan hewan

- A. kudanil
- B. gajah
- C. badak
- D. kerbau

19.



Gambar di samping merupakan hewan

- A. macan tutul
- B. harimau Sumatera
- C. badak Jawa
- D. singa Arfika

20. **Burung cendrawasih** adalah fauna khas dari daerah
- | | |
|-------------|---------------|
| A. Jawa | C. Kalimantan |
| B. Sumatera | D. Papua |
21. **Komodo** adalah fauna khas dari daerah
- | | |
|------------------------|---------------------|
| A. Nusa Tenggara Timur | C. Kalimantan Timur |
| B. Sulawesi Barat | D. Maluku Utara |
22. Contoh fauna yang berasal dari **Kalimantan** adalah
- | | |
|-----------------------|-----------------------|
| A. bekantan | C. badak bercula satu |
| B. burung cendrawasih | D. macan tutul |
23. Contoh fauna yang berasal dari **Bali** adalah
- | | |
|-----------------------|----------------------|
| A. burung cendrawasih | C. burung jalak Bali |
| B. burung enggang | D. burung taong |

<p style="text-align: center;">Ampar- ampar pisang Pisangku belum matang</p>
--

24. Potongan lirik di atas berasal dari lagu
- | |
|--------------------------|
| A. Ampar-ampar pisang |
| B. Satu nusa satu bangsa |
| C. Awak ta kicuan |
| D. Ayam den lapeh |

25.



Gambar di samping merupakan jenis benda alam. . . .

- | |
|----------|
| A. gelas |
| B. guci |
| C. pot |
| D. teko |

26.



Gambar di samping merupakan jenis benda alam

- | |
|----------------------|
| A. gelas |
| B. cangkir |
| C. cangkir dan gelas |
| D. gelas dan sendok |

27. Gambar benda alam teko adalah

A.



C.



B.



D.



Itulah hari kemerdekaan kita

28. Potongan lirik di atas berasal dari lagu

A. Indonesia Pusaka

C. Satu Nusa Satu Bangsa

B. Hari Merdeka

D. Garuda Pancasila

29. Di bawah ini yang merupakan potongan lirik dari lagu **Hari Merdeka** adalah

A. Hutan, gunung, sawah lautan, simpanan kekayaan

B. Patriot proklamasi sedia berkorban untukmu

C. Indonesia raya merdeka merdeka, tanahku negeriku yang kucinta

D. Sekali merdeka tetap merdeka, selama hayat masih di kandung badan

30. Di bawah ini yang merupakan potongan lirik dari lagu **Halo-halo Bandung** adalah

A. Padamu negeri kami mengabdikan

B. Pancasila dasar negara, rakyat adil makmur sentosa

C. Sungguh besar cita-citanya bagi Indonesia

D. Sekarang telah menjadi lautan api, mari bung rebut kembali


31. Lagu yang selalu dinyanyikan saat melaksanakan upacara bendera adalah

A. Indonesia Pusaka

B. Indonesia Raya

C. Tanah Airku

D. Padamu Negeri

32. **Tari bali** berasal dari
- A. Jawa Barat
 - B. Bali
 - C. Jakarta
 - D. Papua
33. **Tarian Dindin Ba Dindin** berasal dari
- A. Kalimantan Selatan
 - B. Sulawesi Utara
 - C. Maluku
 - D. Sumatera Barat
34. **Tarian Saman** berasal dari
- A. Aceh
 - B. Riau
 - C. Maluku
 - D. Papua
35.  Gambar di samping merupakan tarian yang berasal dari
- A. Maluku
 - B. Sulawesi
 - C. Aceh
 - D. Bali
36. Tarian daerah dari **Sumatera Barat** adalah
- A. tari Saman
 - B. tari Dindin Ba Dindin
 - C. tari Jaipong
 - D. tari Kuda Lumping
37. Tarian daerah dari **Jawa Barat** adalah
- A. tari Saman
 - B. tari Dindin Ba Dindin
 - C. tari Jaipong
 - D. tari Kuda Lumping
38. Tarian daerah dari **Jawa Timur** adalah
- A. tari Reog
 - B. tari Jaipong
 - C. tari Piring
 - D. tari Kecak

39. Tarian daerah dari **DKI Jakarta** adalah

- A. tari Reog
- B. tari Jaipong
- C. tari Topeng
- D. tari Kecak

40. Tarian daerah dari **Bali** adalah

- A. tari Reog
- B. tari Jaipong
- C. tari Piring
- D. tari Kecak

II. Isilah pertanyaan dibawah ini dengan jelas dan benar !

41. Contoh tanaman yang hidup di air adalah

42. Contoh nama flora

43. Contoh fauna yang dilindungi di indonesia

44. Contoh gambar benda alam adalah

45. Judul lagu nasional yang kamu ketahui adalah

***** Semoga Berhasil 😊😊😊 *****