

Nama :
Kelas SOSHUM :
Email Guru : dhonaika3@gmail.com

SOAL PENDALAMAN USBK SOSIOLOGI
TAHUN AJARAN 2022

1. Cara ilmiah menemukan jawaban atas pertanyaan adalah pengertian dari....
A. Hipotesis
B. Teori
C. Penelitian
D. Paradigma
E. Generalisasi
2. Seorang peserta didik meneliti kehidupan masyarakat Desa gambir akibat erupsi Gunung Sinabung. Apabila dianalisis menggunakan teori yang dikemukakan Auguste Comte, kegiatan peserta didik tersebut termasuk dalam tahap pemikiran
A. teologis
B. positivis
C. metafisika
D. politeisme
E. monoteisme
3. Pada era modern masyarakat dituntut senantiasa mengikuti perkembangan teknologi. Untuk menanggapi fenomena sosial tersebut pemerintah meminta bantuan sosiolog mempersiapkan masyarakat tanggap teknologi berdasarkan data-data yang diajukan sosiolog. Masyarakat yang tanggap teknologi secara bijak. Berdasarkan fenomena sosial tersebut, Sosiolog berfungsi sebagai bahan
A. penelitian sosial
B. perencanaan sosial
C. pembuatan keputusan
D. penyelesaian masalah sosial
E. evaluasi pembangunan social
4. Sejak menjadi anggota geng motor Rian sering mabuk berat. Apabila dilihat dari jumlah pelakunya, penyimpangan yang dilakukan Rian termasuk penyimpangan
A. Negatif
B. Primer
C. Individu
D. Sekunder
E. Kolektif
5. Kepala desa menasehati salah satu warganya yang melanggar peraturan irigasi sawah sehingga menimbulkan konflik dengan sesama warga desa lainnya. Kepala desa menjelaskan bahwa perbuatannya tidak baik, tercela, dan merugikan warga lain. Untuk itu, disarankan agar tidak mengulangi lagi perbuatan tersebut dan meminta maaf kepada warga lain yang dirugikan. Cara pengendalian sosial oleh kepala desa tersebut dilakukan secara persuasif karena
A. mengajak anggota masyarakat agar dapat bertindak sesuai dengan kaidah sosial yang berlaku
B. secara simbolik mengajak anggota masyarakat untuk bertindak sesuai nilai dan norma
C. pengendalian sosial dilakukan sebelum terjadinya penyimpangan oleh anggota masyarakat
D. menekankan pada ancaman atau kekerasan yang bersifat fisik agar pelaku menjadi jera
E. pengendalian sosial dilakukan sebagai bentuk imbalan atas tindakan individu di masyarakat
6. Kemal seorang pegawai baru di Direktorat Jenderal Bea dan Cukai. Saat sedang bertugas ia didatangi seorang pengusaha ekspor-impor. Pengusaha tersebut menawarkan sejumlah uang kepada Kemal agar ia bisa meloloskan barang milik perusahaan si pengusaha tanpa melewati

Selamat mengerjakan dan semoga sukses

prosedur resmi. Walaupun tidak ada yang tahu tetapi Kemal menolaknya karena bertentangan dengan keyakinannya dan mempersilahkan pengusaha tersebut pergi meninggalkan kantornya. Tindakan Kemal merupakan perilaku yang didasari nilai

- | | |
|-------------|----------|
| A. religius | D. etika |
| B. vital | E. estet |
| C. material | |

7. Perhatikan pernyataan berikut!
- 1) Angga mencuri uang teman sekelasnya
 - 2) Rita lupa mengerjakan pekerjaan rumah karena ketiduran
 - 3) Rian tidak ikut kerja bakti bersama warga lainnya
 - 4) Tauran antara dua geng pelajar di jalan raya
 - 5) Guru memukul siswanya karena tidak mengerjakan pekerjaan rumah (PR)
- Perilaku menyimpang sekunder ditunjukkan oleh nomor
- A. 1, 2, dan 3 C. 2, 3 dan 5 E. 2, 4, dan 5
 B. 1, 3 dan 4 D. 1, 4, dan 5
8. Perhatikan pernyataan berikut.
- (1) Gadis itu memiliki kepribadian dan perilaku seperti ibunya yang lemah lembut.
 - (2) Penyanyi pria itu melantunkan lagu dengan suara dan gaya seperti idolanya.
 - (3) Anak perempuan itu mengidentifikasi sikap dan perilakunya dengan artis Korea.
 - (4) Seorang pelajar mengidentifikasi diri seperti gurunya dalam berperilaku.
 - (5) Seorang anak laki-laki meniru pakaian dan gaya bermain atlet sepak bola idolanya.
- Pernyataan di atas merupakan contoh proses identifikasi dalam interaksi sosial, karena
- A. seseorang memerlukan tipe ideal dalam hidupnya
 B. tokoh idola berhasil menggerakkan hati penggemarnya
 C. seseorang merasa tertarik dengan tokoh idolanya
 D. keinginan meniru gaya orang lain dalam berpakaian
 E. adanya komunikasi dengan orang yang dikaguminya
9. Seseorang yang sudah lama bekerja di bank sudah mampu menyesuaikan diri dengan aturan-aturan yang ada. Tahap sosialisasi yang terjadi adalah
- A. *Play stage* C. *Game stage* E. *Generalized stage*
 B. *Significant other* D. *Preparatory stage*
10. Seorang karyawan menjadi pimpinan di sebuah perusahaan asing setelah bekerja selama 20 tahun. Ia bergaul dengan sekelompok elite perusahaan yang mempunyai hobi berbelanja barang-barang mewah. Ketika muncul keinginan untuk membeli barang tersebut, ia tidak mempunyai uang untuk membelinya. Ia akhirnya melakukan korupsi untuk memenuhi keinginannya. Perilaku menyimpang dalam contoh tersebut disebabkan oleh
- A. proses sosialisasi primer yang tidak sempurna pada individu
 B. pergaulan dengan subkebudayaan yang menyimpang
 C. adanya *labelling* dari masyarakat kepada pelaku korupsi
 D. lemahnya pengawasan dari pihak manajemen perusahaan
 E. keinginan untuk meraih uang sebanyak-banyaknya tanpa kerja keras
11. Para ahli Sosiologi dari berbagai universitas di Indonesia, membahas tentang kasus tawuran antar pelajar di wilayah perkotaan yang semakin massif. Untuk membedah kasus tersebut, mereka bersepakat untuk melakukan kajian dan pendekatan sosial cultural terhadap para pelajar dari berbagai sekolah. Kasus tersebut, menunjukkan fungsi ilmu sosiologi, sebagai ...
- A. penelitian sosial D. pelaksanaan pembangunan
 B. perencanaan sosial E. pengawasan pembangunan
 C. pemecahan masalah sosial

12. Setiap hari peserta didik masuk sekolah mengenakan seragam beserta atribut lengkap serta membawa sumber dan perlengkapan belajar sesuai aturan yang berlaku. Unsur keteraturan sosial berdasarkan pernyataan tersebut ialah ..

- A. pola
B. order
C. keajekan
D. tertib sosial
E. tatanan social

13. Masyarakat yang tinggal di sekitar pantai cenderung memiliki struktur sosial terbuka, dinamis, dan heterogen jika dibandingkan dengan masyarakat yang tinggal di daerah pedalaman. Faktor yang mempengaruhi struktur sosial tersebut adalah

- A. letak geografis
B. tradisi masyarakat
C. asal usul keturunan
D. sumber kehidupan
E. ekspansi masyarakat luar

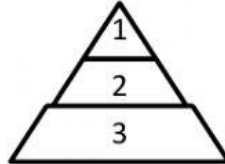
14. Sidahuruk, Sihombing, Nasution, dan Harahap yang merupakan kelompok nama-nama marga yang berasal dari Sumatera Utara. Pembagian kelompok tersebut berdasarkan keturunan yang sama, bersifat sederajat, dan memiliki kedudukan yang sama disebut dengan diferensiasi sosial. Kelompok nama-nama marga tersebut adalah pola diferensiasi sosial berdasarkan ...

- A. agama
B. suku bangsa
C. ras
D. klan
E. etnik

15. Perhatikan piramida stratifikasi sosial berikut!

Keterangan:

1. Raja dan keluarganya
2. Priyai atau pegawai kerajaan
3. Petani dan rakyat biasa



Stratifikasi sosial berdasarkan piramida tersebut didasarkan pada

- A. pengetahuan dan kehormatan
B. kekayaan dan pengetahuan
C. kekayaan dan pendidikan
D. keturunan dan kekuasaan
E. pendidikan dan keturunan

16. Politik apartheid adalah perwujudan bahwa terjadi konflik yang berkepanjangan di Afrika Selatan.

Konflik tersebut merupakan konflik ...

- A. antar kelas
B. politik
C. pribadi
D. rasial
E. perorangan

17. Perhatikan ciri-ciri berikut!

- 1) Memiliki kesadaran sebagai bagian dari kelompok.
2) Memiliki kepentingan yang sama.
3) Memiliki profesi yang sama
4) Memiliki hubungan timbal balik secara kontinu.
5) Berideologi politik yang sama.

Ciri-ciri kelompok sosial ditunjukkan oleh angka .

- A. 1), 2), dan 3)
B. 1), 2), dan 4)
C. 1), 3), dan 5)
D. 2), 4) dan 5)
E. 3), 4) dan 5)

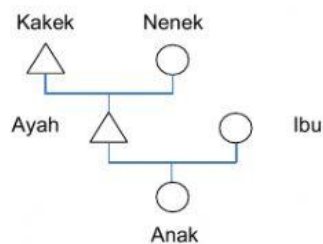
18. Masyarakat pedalaman di Indonesia seperti Suku Baduy Dalam dan Suku Anak Dalam umumnya bersifat tertutup terhadap masyarakat di luar kelompoknya. Mereka berbeda dengan suku-suku lain sehingga menyebabkan struktur sosial masyarakat Indonesia bersifat heterogen. Faktor penyebab terjadinya kondisi tersebut adalah ...

- A. memiliki sumber kehidupan sendiri
- B. tinggal di daerah dataran rendah
- C. kekuasaan bersumber pada kewibawaan
- D. pemimpin tidak tabu terhadap hal-hal asing
- E. perbedaan adat istiadat karena isolasi alam

19. Dua orang karyawan memiliki masalah di kantor. Untuk menyelesaikan masalah kedua karyawan tersebut, perusahaan meminta mereka berdamai dan menandatangani surat pernyataan yang telah disiapkan perusahaan. Bentuk akomodasi dalam kasus tersebut adalah

- A. kompromi
- B. *stelemate*
- C. konsiliasi
- D. toleransi
- E. koersi

20. Perhatikan bagan berikut.



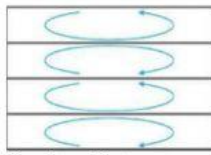
Mobilitas sosial yang terjadi pada bagan di atas disebut ...

- A. mobilitas antarkeluarga
- B. antargenerasi turun
- C. intragenerasi turun
- D. antargenerasi naik
- E. intragenerasi naik

21. Perubahan sosial menuju masyarakat industri merupakan suatu perubahan yang tidak bisa terelakkan. Ciri utama masyarakat tersebut adalah adanya spesialisasi dalam pekerjaan. Semakin terspesialisasi seseorang semakin tinggi tingkat penghargaan masyarakat terhadap orang tersebut. Spesialisasi pekerjaan ini membuat satu pekerjaan tergantung kelangsungannya pada pekerjaan lainnya. Sehingga muncul kelompok yang anggotanya terdapat pamrih dalam hubungan sosial dengan tujuan untuk memperoleh keuntungan kebendaan dan kelompok ini dalam sosiologi disebut sebagai kelompok partembayan. Berdasarkan deskripsi, contoh dari kelompok sosial tersebut adalah

- A. Persatuan Dagang Indonesia
- B. Forum Masyarakat Betawi
- C. Himpunan Mahasiswa Makassar
- D. Persatuan Keluarga Minangkabau
- E. Kelompok Nelayan Manasari

22. Perhatikan gambar sifat stratifikasi sosial berikut!



Gambar di atas merupakan sifat pelapisan sosial yang statis, karena

- A. status sosial anggota masyarakat diperoleh berdasarkan keturunan
 - B. anggota kasta tinggi boleh menikah dengan kasta rendah
 - C. setiap anggota kasta memiliki hak dan kewajiban yang berbeda
 - D. masyarakat ingin menjaga kemurnian status anggota kelas sosial
 - E. pekerjaan anggota kasta terendah umumnya tidak dihargai
23. Banyak petani jamur di Desa Sukasari belum bisa mengolah jamur menjadi makanan. Oleh karena itu, pemerintah memberikan pelatihan dan memberikan modal untuk mengelola UKM di desa tersebut. Akibatnya, masyarakat dapat mengembangkan UKM pengelola makanan berbahan dasar jamur. Anggota masyarakat yang tidak memiliki pekerjaan juga dapat memperoleh pekerjaan sehingga kesejahteraannya meningkat. Dampak mobilitas sosial berdasarkan ilustrasi tersebut adalah
- A. menimbulkan pertentangan
 - B. meningkatkan integrasi sosial
 - C. mempercepat perubahan sosial
 - D. meningkatkan status sosial keluarga
 - E. mendorong persaingan antar-UKM
24. Budaya populer yang masuk di Indonesia mengancam eksistensi budaya bangsa. Oleh karena itu, masyarakat dituntut memiliki semangat nasionalisme. Perilaku yang menunjukkan semangat nasionalisme generasi muda dalam rangka mempertahankan eksistensi budaya bangsa ialah
- A. Menolak semua pengaruh budaya dari Negara lain
 - B. Menyeragamkan kebudayaan dalam masyarakat
 - C. Meningkatkan ketaatan terhadap agama yang dianut
 - D. Menolak dominasi kelompok mayoritas dalam masyarakat
 - E. Menggunakan bahasa Indonesia dalam pergaulan sehari-hari
25. Industri merupakan sektor utama dalam perekonomian modern karena sektor industri memegang peran kunci sebagai mesin pembangunan. Sektor industri memiliki beberapa keunggulan dibandingkan sektor lain karena memiliki nilai kapitalisasi sangat besar, mampu menyerap banyak tenaga kerja, dan juga mampu menciptakan nilai tambah pada bahan dasar yang diolah. Industrialisasi membawa perubahan-perubahan yang signifikan terhadap peningkatan kualitas hidup (*quality of life*) masyarakat. Berdasarkan ilustrasi tersebut, industrialisasi dapat dikategorikan ke dalam perubahan besar karena ...
- A. melalui tahapan-tahapan dari yang sederhana menjadi maju dan memerlukan waktu yang sangat lama
 - B. merupakan perubahan yang cepat dan mendasar yang mengakibatkan timbulnya reorganisasi dalam masyarakat
 - C. menyebabkan timbulnya akibat-akibat sosial yang tidak diharapkan oleh masyarakat
 - D. terjadi perubahan pada struktur kemasyarakatan, sistem mata pencaharian, hubungan kerja, serta stratifikasi masyarakat
 - E. terjadi pada unsur-unsur proses sosial yang membawa pengaruh langsung pada masyarakat
26. Transaksi online menjadi tren di kalangan masyarakat. Seseorang dapat membeli dan menjual melalui internet. Realitas ini berbeda dengan lima tahun yang sebelumnya ketika transaksi online belum marak dilakukan oleh masyarakat. Dampak negatif perubahan ini adalah
- A. terjadinya disintegrasi di dunia maya
 - B. terjadinya gejala westernisasi
 - C. berlakunya norma-norma baru yang tidak sesuai
 - D. Mendorong masyarakat menjadi konsumtif
 - E. masyarakat terlalu terbuka dengan kebudayaan luar

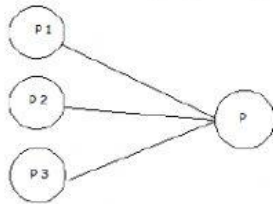
27. Perhatikan beberapa pernyataan berikut!

- | | |
|--------------------------------------|---------------------------------|
| 1) Memiliki tingkat kekebalan. | 4) Menjaga kelestarian manusia. |
| 2) Berupa sekumpulan orang. | 5) Memiliki lambang/symbol. |
| 3) Memiliki tata tertib dan tradisi. | |

Ciri lembaga sosial terdapat pada pilihan angka ...

- | | |
|-------------------|-------------------|
| A. 1), 2), dan 3) | E. 3), 4), dan 5) |
| B. 1), 2), dan 4) | |
| C. 1), 3), dan 5) | |
| D. 2), 4), dan 5) | |

28. Perhatikan alur pengaruh penemuan baru berikut!



Keterangan:

P 1-3 : penemuan-penemuan baru

P : perubahan

Keterangan yang tepat untuk mendeskripsikan alur tersebut adalah .

- A. satu penemuan baru menyebabkan perubahan tertentu
- B. beberapa penemuan baru menyebabkan perubahan tertentu
- C. antara dua penemuan baru bersaing menciptakan satu jenis perubahan
- D. satu penemuan baru menyebabkan pengaruh pada bidang-bidang lainnya
- E. beberapa penemuan baru menyebabkan beberapa jenis perubahan
29. Globalisasi ekonomi merupakan salah satu bentuk perubahan sosial di masyarakat yang sifatnya mendunia tanpa mengenal batas wilayah. Negara-negara di seluruh dunia menjadi satu kekuatan pasar yang semakin terintegrasi tanpa rintangan batas teritorial dan menghapus seluruh batasan terhadap arus modal, barang, dan jasa. Contoh globalisasi ekonomi sesuai ilustrasi adalah
- A. perusahaan-perusahaan luar negeri yang beroperasi di Indonesia
- B. berkembangnya mode berskala global seperti pakaian, film, dan lain lain
- C. penggunaan media elektronik dalam mengirim dan menerima informasi
- D. menonton acara KTT APEC di Beijing melalui satelit parabola di rumah
- E. revitalisasi pasar tradisional dengan mengubah sistem menjadi pasar modern
30. Pihak kepolisian melakukan patroli secara berkala untuk mengurangi tingkat kejahatan begal dan keresahan masyarakat. Sebagai bagian dari lembaga hukum, tindakan polisi tersebut mencirikan fungsi lembaga sosial yaitu
- A. menjaga keutuhan masyarakat
- B. meningkatkan solidaritas sosial
- C. memberi rasa aman kepada warga
- D. memberi pedoman dalam bertindak laku
- E. mengembangkan kehidupan sosial masyarakat
31. Di satu sisi internet memberikan kemudahan bagi penggunaanya dalam mengakses informasi. Di sisi lain, internet menawarkan berbagai konten negatif yang dapat dibuka oleh siapa pun. Upaya tepat untuk menghindari dampak negatif tersebut ialah .
- A. menutup warung internet
- B. menolak penggunaan internet
- C. memblokir konten-konten negatif
- D. melarang penggunaan komputer
- E. melarang jual beli *smartphone*

32. Indonesia merupakan salah satu Negara yang kerap menjadi tujuan tenaga kerja asing untuk mencari pekerjaan. Masuknya tenaga kerja asing di Indonesia turut meramaikan persaingan kerja. Upaya tepat yang dapat dilakukan pemerintah untuk menghadapi tantangan globalisasi tersebut adalah
- menutup akses tenaga asing yang ingin mencari pekerjaan di dalam negeri
 - melakukan hubungan kerja (PHK) tenaga kerja lokal
 - meningkatkan keahlian tenaga kerja lokal melalui pelatihan kerja
 - menambah lapangan pekerjaan dengan membangun pabrik baru
 - meningkatkan upah minimum pekerja asing di setiap daerah
33. Perhatikan ciri-ciri berikut!
- Analisis data berupa angka.
 - Proses penelitian induktif.
 - Penelitian dimulai dari teori dan hipotesis.
 - Ada jarak kedekatan antara peneliti dan informan.
 - Analisis data dilakukan sejak penelitian memasuki lapangan.
- Ciri-ciri penelitian kuantitatif ditunjukkan oleh angka ...
- 1), 2), dan 3)
 - 1), 3), dan 4)
 - 1), 4), dan 5)
 - 2), 3), dan 5)
 - 2), 4), dan 5)
34. Fenomena alat transportasi *online* menarik perhatian sekelompok siswa kelas XII IPS untuk melakukan penelitian dengan judul "Perbandingan Tingkat Pendapatan Ojek *Online* dengan Ojek Pangkalan di daerah Gambir, Jakarta Pusat." Jenis penelitian yang dilakukan para siswa tersebut adalah penelitian
- eksperimen
 - korelasional
 - verifikasi
 - komparasi
 - eksplanasi
35. Amir ingin meneliti kehidupan sosial masyarakat suku Bajawa. Ia tinggal dan hidup bersama dengan masyarakat suku Bajawa dalam waktu cukup lama. Amir juga mengikuti berbagai upacara adat setempat. Amir mendokumentasikan kehidupan sosial masyarakat suku Bajawa dalam bentuk foto dan video. Cara pengumpulan data yang dilakukan Amir ialah
- observasi nonpartisipatif
 - wawancara mendalam
 - observasi partisipatif
 - kuesioner terstruktur
 - survei lapangan
36. Setelah melakukan penelitian, Agus diminta mempresentasikan hasil penelitiannya. Kegiatan presentasi tersebut dapat bermanfaat secara teoritis yaitu ..
- memenuhi keinginan sponsor
 - menjadi referensi penelitian lain
 - meningkatkan keterampilan peneliti
 - meningkatkan prestasi akademik
 - meningkatkan kualitas ilmu pengetahuan

37. Perhatikan indikator berikut!

- 1) Menarik minat sponsor
- 2) Muda dibuat atau ditiru.
- 3) Menarik minat peneliti.
- 4) Memuat variabel yang akan diteliti.
- 5) Sesuai bidang keahlian.

Topik penelitian yang baik ditunjukkan oleh angka

- | | |
|-------------------|-------------------|
| A. 1), 2), dan 3) | D. 2), 4), dan 5) |
| B. 1), 2), dan 4) | E. 3), 4), dan 5) |
| C. 1), 3), dan 5) | |

38. Perhatikan pernyataan-pernyataan berikut!

- (1) Memeriksa kelengkapan instrumen pengumpulan data.
- (2) Memasukkan data ke dalam tabel yang sudah disediakan.
- (3) Meneliti keterbacaan tulisan dan kejelasan jawaban responden.
- (4) Memberi nomor tertentu pada item-item jawaban responden.
- (5) Memeriksa keselarasan jawaban-jawaban yang diberikan responden.

Berdasarkan pernyataan di atas, yang merupakan proses mengedit data ditunjukkan oleh nomor

- A. (1), (2), dan (3)
- B. (1), (2), dan (4)
- C. (1), (3), dan (5)
- D. (2), (4), dan (5)
- E. (3), (4), dan (5)

39. Peneliti menyebarkan angket kepada responden yang sudah ditetapkan. Selanjutnya, angket yang sudah diisi oleh responden dikumpulkan untuk dijadikan data primer. Berdasarkan deskripsi tersebut, angket dapat dikategorikan sebagai data primer karena ...

- A. diperoleh secara serentak
- B. data sudah tersedia sejak awal
- C. diperoleh langsung dari lapangan
- D. data tidak perlu diolah terlebih dahulu
- E. digunakan untuk mendukung hasil analisis

40. Dalam memperoleh data, pendekatan survei lebih tepat menggunakan angket. Sedangkan cara memperoleh data yang paling akurat bagi pendekatan studi kasus adalah ...

- A. observasi partisipatif dan kuesioner
- B. wawancara dan kuesioner
- C. studi pustaka dan wawancara
- D. observasi partisipatif dan wawancara
- E. observasi nonpartisipatif dan wawancara