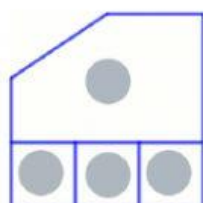


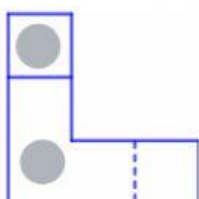
NOTA: RECUERDA QUE ALZADO = FRONTAL (FRONT) !

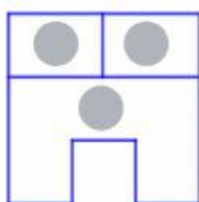
PLANTA (PLAN OR OVERHEAD) = SUPERIOR Y PERFIL (SIDE) = LATERAL

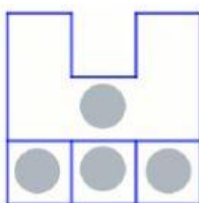
RECUERDA COLOCAR LOS NOMBRES COMO SE TE PIDEN EN LOS EJERCICIOS PLANTA, ALZADO, PERFIL

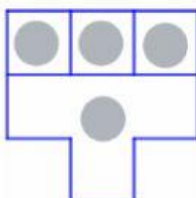
1. A continuación se muestran las vistas de las figuras A y B. Indica en cada dibujo si se trata de la planta, el alzado o el perfil (la flecha indica la dirección y sentido del alzado). Además, en los círculos grises de las vistas, indica a qué cara de las figuras se corresponden.

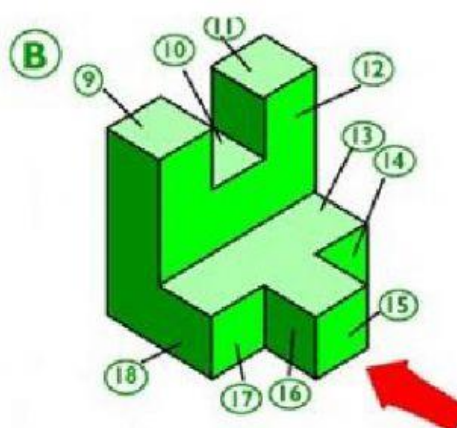
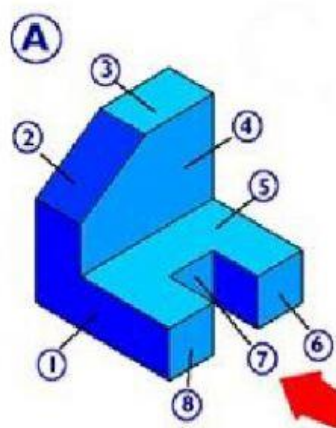




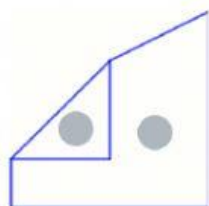
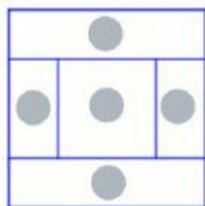
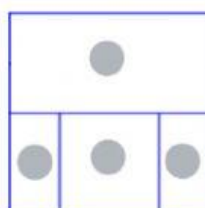
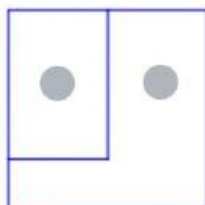
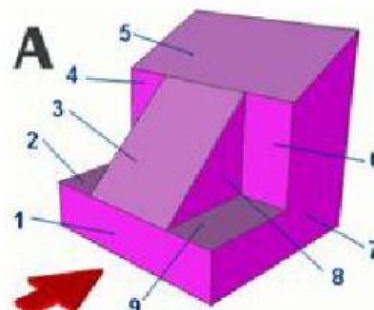
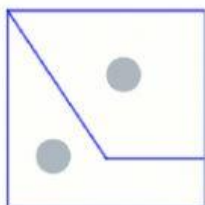
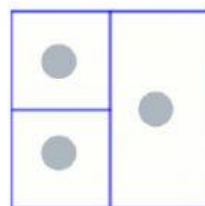
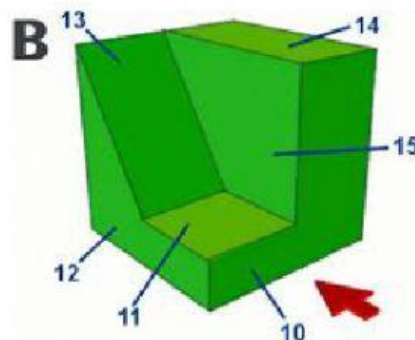








2. A continuación se muestran las vistas de las figuras A y B. Indica en cada dibujo si se trata de la planta, el alzado o el perfil (la flecha indica la dirección y sentido del alzado). Además, en los círculos grises de las vistas, indica a qué cara de las figuras se corresponden.

3. Para cada uno de los objetos, indica a qué vista (planta, alzado o perfil) si corresponde cada una de las vistas mostradas. Ten en cuenta que la flecha indica la dirección del alzado:

