



Unidad Educativa Santo Tomás Apóstol

Saleariano - Riobamba



Nombre y Apellido: _____

Curso: Quinto Paralelo: _____

Fecha: _____

En el mapa físico del Ecuador, ubique 5 leyendas correspondientes a los mapas. Para lo cual se adjunta la información.

MAPA FISICO

Representan los diversos elementos del relieve de un territorio: montañas, ríos, lagos.

LA LEYENDA

Es el conjunto de símbolos que se utilizan al elaborar un mapa o plano, y lo que significa cada uno de ellos. Muchos de los símbolos y colores que se utilizan están establecidos, por ejemplo:


























Un triángulo representa una montaña.

Un avión representa un aeropuerto.

Una línea azul claro simboliza un río.

Una línea color verde es un camino de tierra.

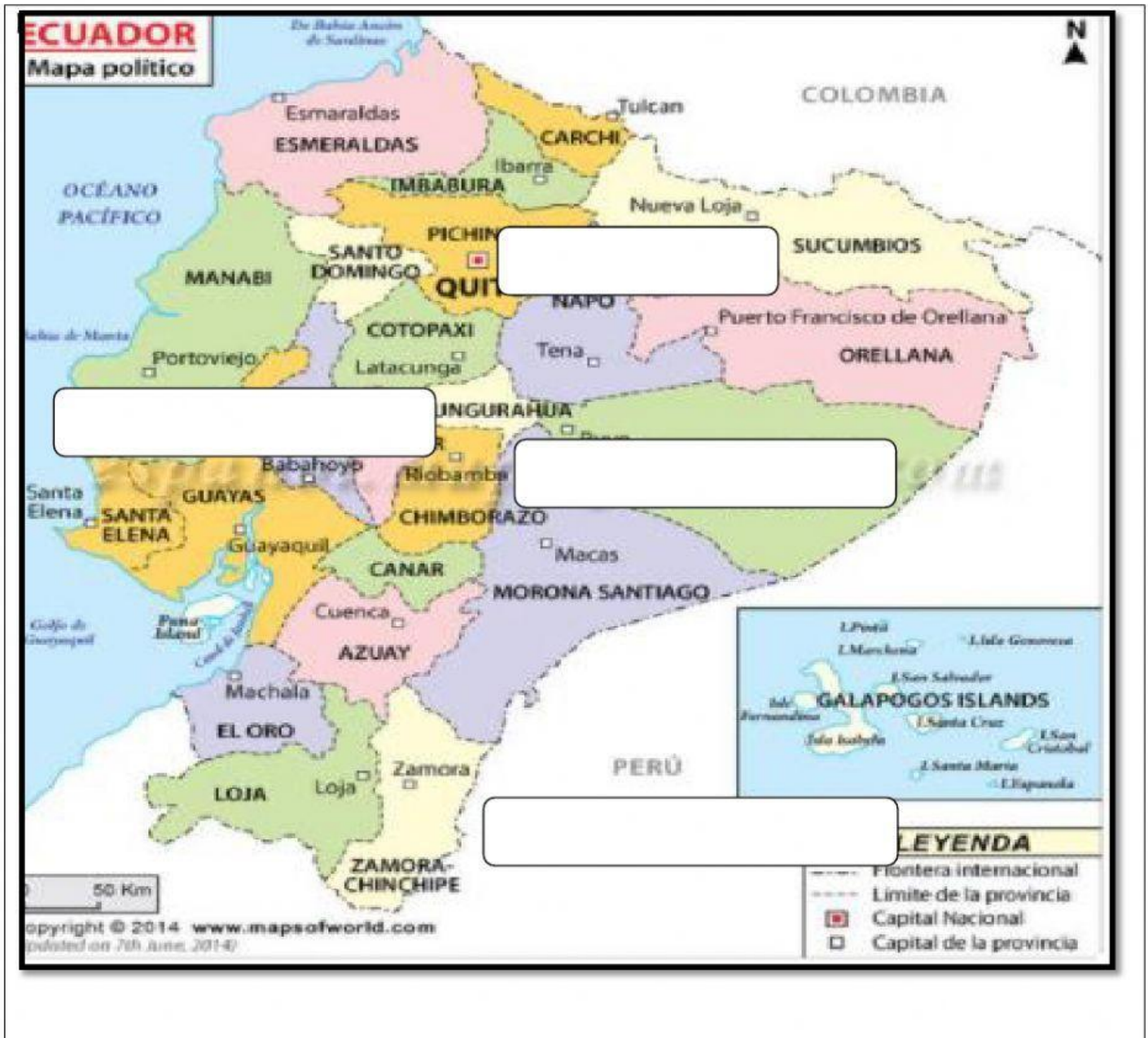


LEYENDA	
Red Vial	
Nacional	Departamental
 Asfaltado	 Asfaltado
 Sin Asfaltar	 Sin Asfaltar
 En Proyecto	 En Proyecto
Aeropuertos	
 Internacional	
 Nacional	
 Aerodromo	
 Helipuerto	
Centros Poblados	
 Capital Departamental	
 Capital Provincial	
 Capital Distrital	
 Centro Poblado	
 Puente	
 Pontón	
 Puerto	
 Mina	
 Accidente geográfico	
	Limites
	 Departamental
	 Internacional
	 Zona Urbana
	 Lagos y Lagunas
	 Ríos Principales
 Ferrocarril	
Elaborado por: Oficina de Estadística / ciso Oficina General de Planeamiento y Presupuesto - MTG Fuente: Clasificador de Rutas (O.S. 544-2008 - MTG)	
Fecha: Agosto 2009	



Unidad Educativa Santo Tomás Apóstol

Salerianos - Riobamba



Arrastre ubicando correctamente en el mapa 4 leyendas.

Frontera Interprovincial

Capital de la provincia

Capital Nacional

Límite de la Provincia

FIRMA DEL REPRESENTANTE: _____