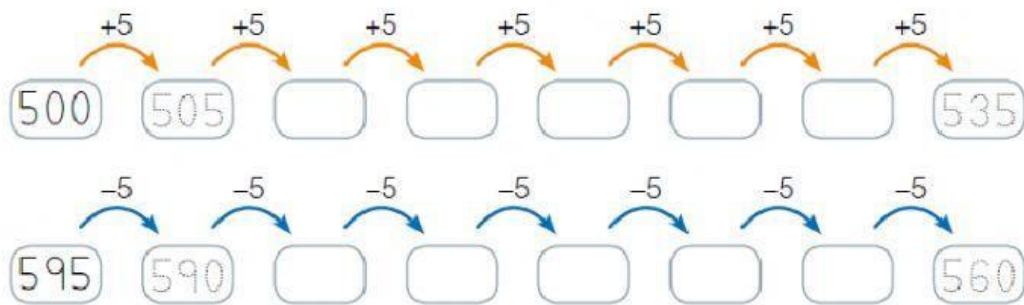
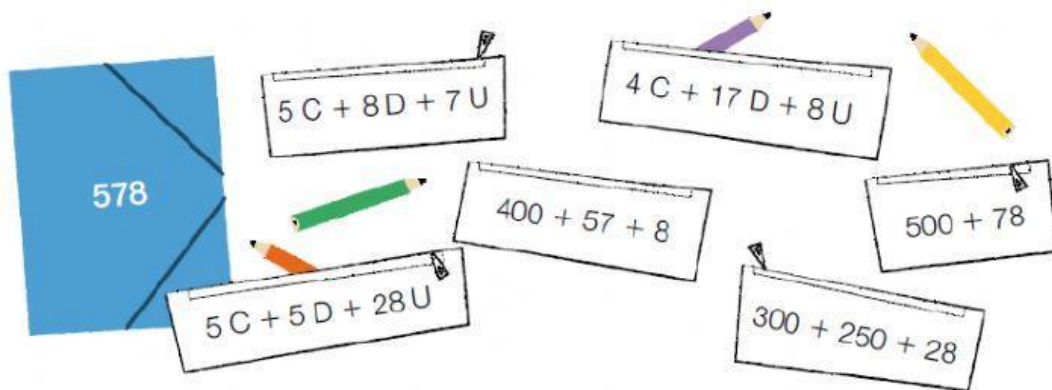


Los números del 500 al 599

1 Completa las series.



2 Fíjate en el número de la carpeta y marca los estuches que correspondan.



3 Escribe los números.

quinientos cincuenta y dos \rightarrow

quinientos cuatro \rightarrow

quinientos veinte \rightarrow


$500 + 30 + 6 \rightarrow$

$5C + 13U \rightarrow$

$5C + 6U \rightarrow$

4 Lee y marca la seta correcta.

- Es menor que 550.
- La cifra de las unidades es 5.
- La cifra de las decenas es 8.
- Es mayor que 200.



5 Completa con números anteriores y posteriores.

579	580	
		519
550		

530		
	560	
		599

6 Observa el número de cada gota y marca.

La centena más cercana

524 ▶ 300 400 500

198 ▶ 100 200 300

341 ▶ 300 400 500

La decena más cercana

584 ▶ 570 580 590

308 ▶ 290 310 300

441 ▶ 440 460 450

7 Escribe números con cada grupo de cifras.

Con tres cifras podemos escribir seis números.

5 1 2

1 5 2

5 1

2 1

1 2 5

5

4

3 4 5

4

3

5