



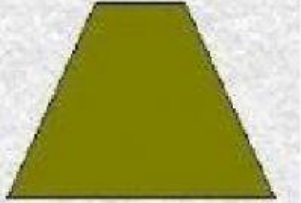









- Escribe qué tipo de cuadrilátero son.

- Escribe **verdadero** ó **falso** según corresponda:

Los paralelogramos solo son el cuadrado, el rombo y el romboide.

Los cuadriláteros no paralelogramos no tienen lados paralelos dos a dos.

El cuadrilátero que tiene sus 4 lados iguales se llama cuadrado equilátero.

El cuadrilátero que tiene dos lados iguales dos a dos y cuatro ángulos de 90 grados es el rectángulo.

El trapecio no tiene ningún lado paralelo.

El cuadrado y el rombo tienen todos sus lados iguales.

El trapecio y el trapecoide son cuadriláteros no paralelogramos.