
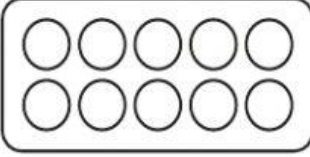
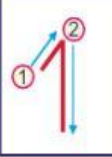



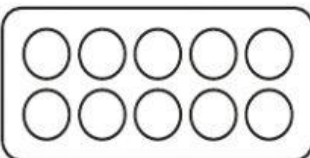




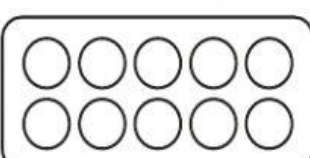




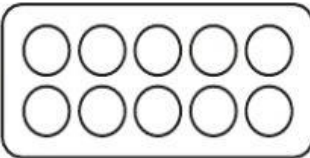
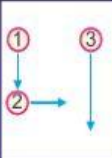



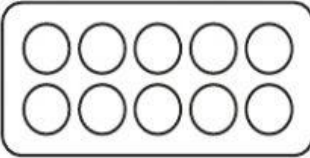















Examen 01 - Aritmética

1 Observa la cantidad de objetos, colorea y escribe el número.

a)		uno				
b)		dos				
c)		tres				
d)		cuatro				
e)		cinco				
f)						
g)						

- 2 Une con una línea para formar cinco.



a) 4 b) 1 c) 3 d) 2



• • • •



1 2 4 3



- 3 Escribe en el la cantidad de tapitas que están escondidas si en cada fila hay 10 tapitas.

a)  

b)  

c)  


- 4 Escribe en el el número que falta para llegar a 10.

Ejemplo: a) b) c) d) e) f)

2	6	3	5	8	9	4
8						



- 5 Escribe el número de bolitas que faltan para llegar a 10. Observa el ejemplo.



a)		<div style="border: 1px solid black; padding: 2px 10px;">5</div> — <div style="border: 1px solid black; padding: 2px 10px;">5</div>
b)		<div style="border: 1px solid black; padding: 2px 10px;"></div> — <div style="border: 1px solid black; padding: 2px 10px;"></div>
c)		<div style="border: 1px solid black; padding: 2px 10px;"></div> — <div style="border: 1px solid black; padding: 2px 10px;"></div>
d)		<div style="border: 1px solid black; padding: 2px 10px;"></div> — <div style="border: 1px solid black; padding: 2px 10px;"></div>
e)		<div style="border: 1px solid black; padding: 2px 10px;"></div> — <div style="border: 1px solid black; padding: 2px 10px;"></div>
f)		<div style="border: 1px solid black; padding: 2px 10px;"></div> — <div style="border: 1px solid black; padding: 2px 10px;"></div>
g)		<div style="border: 1px solid black; padding: 2px 10px;"></div> — <div style="border: 1px solid black; padding: 2px 10px;"></div>
h)		<div style="border: 1px solid black; padding: 2px 10px;"></div> — <div style="border: 1px solid black; padding: 2px 10px;"></div>
i)		<div style="border: 1px solid black; padding: 2px 10px;"></div> — <div style="border: 1px solid black; padding: 2px 10px;"></div>
j)		<div style="border: 1px solid black; padding: 2px 10px;"></div> — <div style="border: 1px solid black; padding: 2px 10px;"></div>




- 6 Según el gráfico anterior completa.

- a) 8 y forman 10.
- b) 10 se forma con 4 y
- c) A 7 le falta para formar 10.






7 Observa los elementos cada conjunto y completa.

a)

Había	Se va	Ahora hay
		
<div style="border: 1px solid black; padding: 5px; display: inline-block;">3</div>	—	<div style="border: 1px solid black; padding: 5px; display: inline-block;">1</div> = <div style="border: 1px solid black; padding: 5px; display: inline-block;">2</div>

b)

Había	Se van	Ahora hay
		
<div style="border: 1px solid black; width: 40px; height: 40px; display: inline-block;"></div>	—	<div style="border: 1px solid black; width: 40px; height: 40px; display: inline-block;"></div> = <div style="border: 1px solid black; width: 40px; height: 40px; display: inline-block;"></div>



8 Resuelve:

a) En una camioneta van 24 personas. Si en el camino suben 13 personas más, ¿cuántas van en total en la camioneta?

Planeamiento : _____

Respuesta : _____

Forma vertical

<div style="border: 1px solid black; width: 30px; height: 30px; display: inline-block;"></div>	<div style="border: 1px solid black; width: 30px; height: 30px; display: inline-block;"></div>	<div style="border: 1px solid black; border-radius: 50%; width: 20px; height: 20px; display: inline-block;"></div>
<div style="border: 1px solid black; width: 30px; height: 30px; display: inline-block;"></div>	<div style="border: 1px solid black; width: 30px; height: 30px; display: inline-block;"></div>	
<div style="border: 1px solid black; width: 30px; height: 30px; display: inline-block;"></div>	<div style="border: 1px solid black; width: 30px; height: 30px; display: inline-block;"></div>	