







SOCIALES UNIDAD 8

1. Coloca en su sitio correspondiente:

Transporte por tierra.	Transporte por aire.	Transporte por agua.
		
		

2. Completa:

- Tomamos un avión en el
- Tomamos un barco en el
- Cogemos un tren en la



3. Escribe V en las afirmaciones que sean verdaderas y F en las que sean falsas

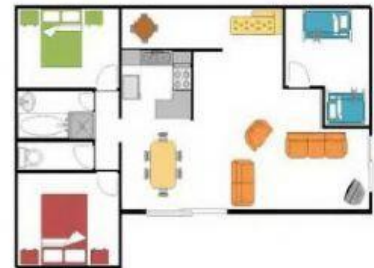
- Los transportes públicos los utilizan muchas personas
- Las norma de seguridad sirven para evitar accidentes
- Las normas de convivencia ayudan a viajar peor
- Los autobuses son transportes privados
- Es preferible utilizar transporte público

4. UNE con flechas:

- Acera Espacio en la calzada por el que los peatones deben cruzar una calle.
- Calzada Espacio situada junto a la calzada por el que caminan los peatones.
- Paso de peatones Espacio por donde circulan los vehículos.

5. Observa el plano y marca con una X la respuesta correcta a la pregunta: ¿Qué datos podemos obtener del plano?

- El número de habitaciones
- El color del suelo
- Donde está mi juguete



6. Arrastra donde corresponda:

Croquis

plano



7. Coloca en su sitio correspondiente

Transporte público	
Transporte privado	

