



# MATEMÁTICA

CALIMERO



Nº

## EVALUACIÓN NÚMEROS NATURALES



NOMBRE:







CURSO:

FECHA:

1	2	3	4	5	6	7	8	9	10
11	12	13	<input type="text"/>	15	16	17	18	19	20
21	22	<input type="text"/>	24	25	26	<input type="text"/>	28	29	30
31	32	33	34	<input type="text"/>	36	37	38	<input type="text"/>	40
41	<input type="text"/>	43	<input type="text"/>	45	46	<input type="text"/>	48	49	<input type="text"/>
51	<input type="text"/>	<input type="text"/>	54	<input type="text"/>	56	57	<input type="text"/>	59	60
<input type="text"/>	62	63	<input type="text"/>	65	66	67	<input type="text"/>	69	<input type="text"/>
71	<input type="text"/>	73	<input type="text"/>	75	<input type="text"/>	<input type="text"/>	78	79	80
81	<input type="text"/>	83	84	<input type="text"/>	86	87	<input type="text"/>	89	90
91	92	<input type="text"/>	94	95	<input type="text"/>	97	98	99	<input type="text"/>

1. Complete los números que corresponde o falte en el cuadro.

II. *Escriba el número y elige la opción correcta que corresponde a cada grafico o dibujo.*

		
<input type="text"/>	<input type="text"/>	<input type="text"/>
		
<input type="text"/>	<input type="text"/>	<input type="text"/>

III. *Contamos y descontamos completamos la serie de números.*

0  2  4   7  9

9  11  13  15

9  7  5   2  0

20   17    13

LIC. OSVALDO CALIZAYA ALBA

IV. Resuelva las siguientes operaciones de números naturales

+

C	D	U
3	4	5
	5	0

+

C	D	U
1	6	3
	5	8

+

C	D	U
	4	5
	5	0

+

C	D	U
	1	5
	5	2

+

C	D	U
	4	5
	5	9

+

C	D	U
	7	5
	2	7

-

C	D	U
3	4	5
2	2	3

-

C	D	U
	7	5
	1	4

-

C	D	U
	4	5
		4

**"EL GENIO SE HACE CON 1% DE TALENTO, Y UN 99% DE TRABAJO"**