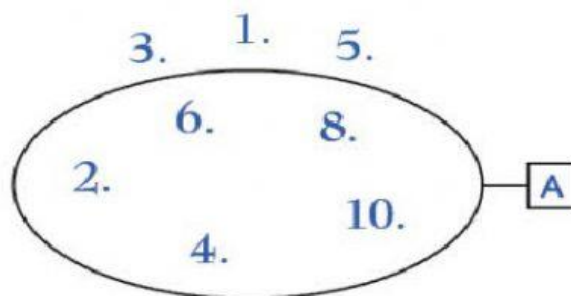


Pertenencia y no pertenencia de conjuntos

1. Arrastra y coloca según corresponda.



- El número 4 _____ al conjunto "A"
- El número 1 _____ al conjunto "A"
- El número 10 _____ al conjunto "A"
- El número 2 _____ al conjunto "B"
- El número 5 _____ al conjunto "A"

~~∉~~


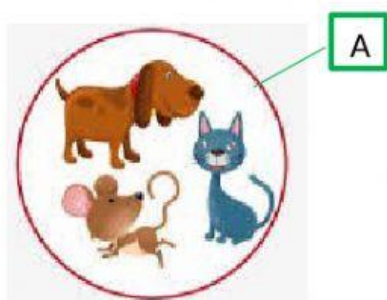
∈

~~∉~~

∈

~~∉~~

2. Coloca verdadero o falso según corresponda.



1. El perro no pertenece al conjunto A.
2. La ballena pertenece al conjunto B.
3. El gato pertenece al conjunto A.
4. El cangrejo pertenece al conjunto C.
5. El ratón pertenece al conjunto A.