



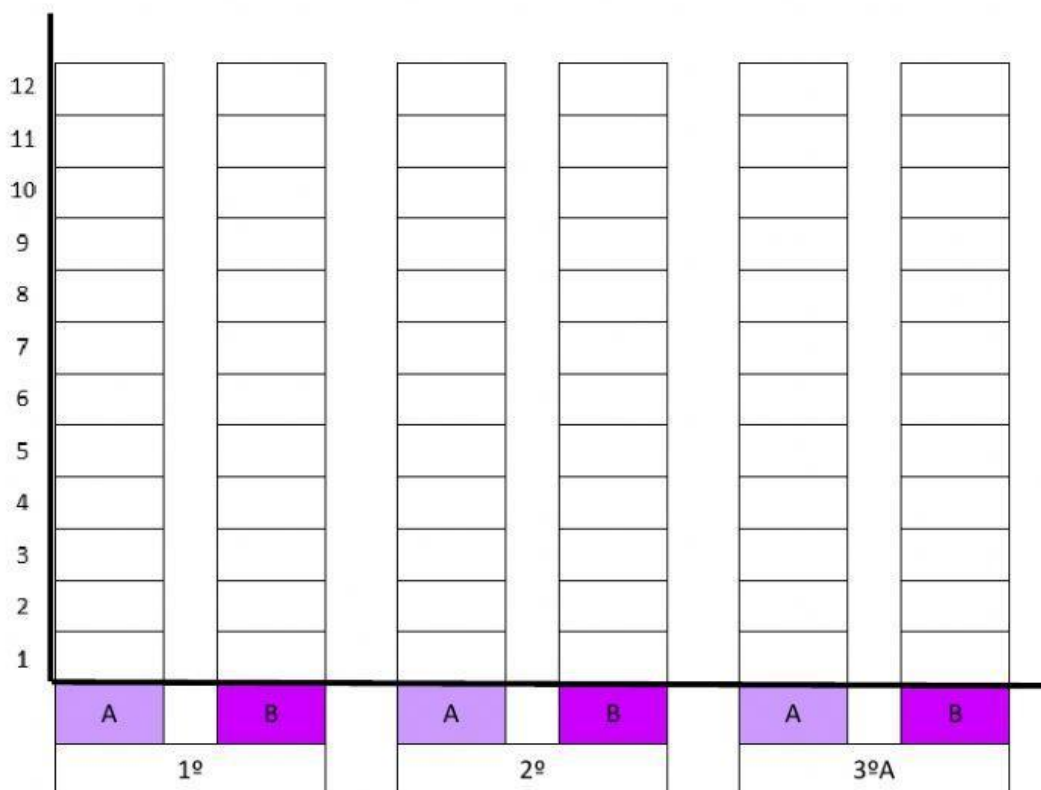
¿Recordáis cuando fuisteis a las demás clases de primaria a preguntar por Lucía Marín?

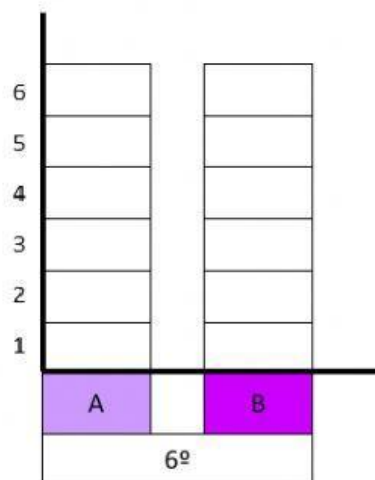
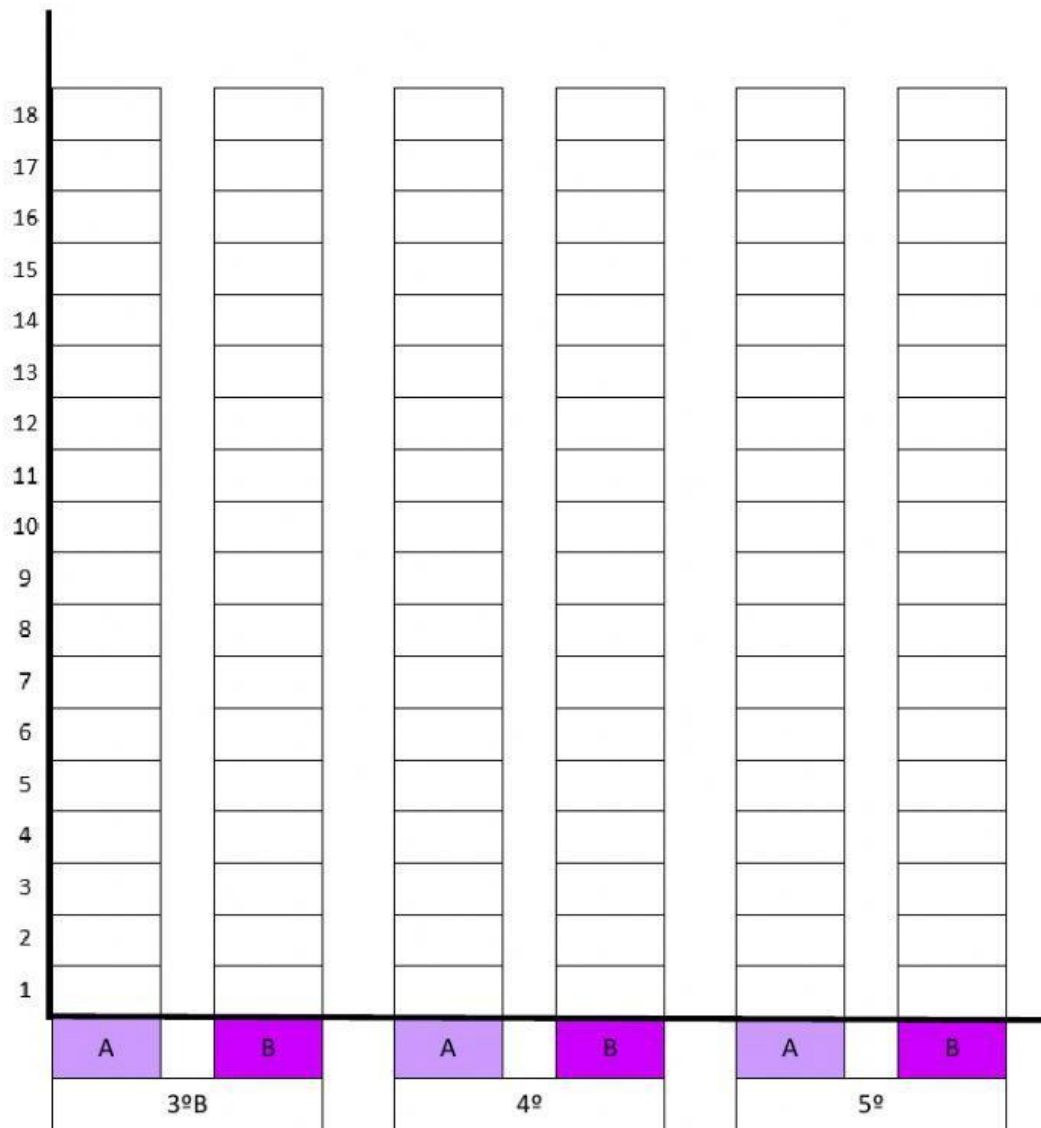
Aquí está la tabla de datos con las respuestas que os dieron.

	A. Número de personas que conocen el nombre de Lucía Marín	B. Número de personas que saben la profesión de Lucía Marín
1º	0	1
2º	0	0
3ºA	4	11
3ºB	0	0
4º	0	17
5º	0	2
6º	1	0

Ahora tienes que completar los siguientes gráficos de barras con los datos de la tabla.

¡Adelante!





Observa la tabla de datos atentamente y responde a las preguntas:

1. ¿En qué clase es más conocido el nombre de Lucía Marín?
2. ¿En qué clase es menos conocido?
3. ¿En qué clase es más conocida la profesión de Lucía Marín?
4. ¿En qué clase es menos conocida?
5. ¿Cuántas personas en total conocen el nombre de Lucía Marín?
6. ¿Cuántas personas en total conocen la profesión de Lucía Marín?