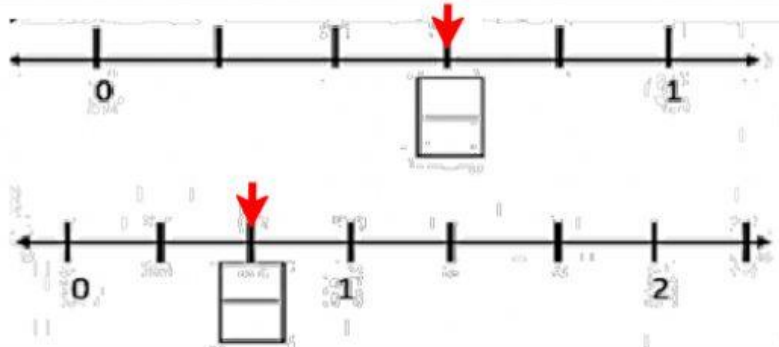


Examen de matemáticas, segundo trimestre.

Nombre del alumno(a): _____


Escribe la fracción que se representa en cada recta

1	1	3	1	2
2	5	5	3	3



En un mapa la escala es de 1cm:10 km

De Los gallos a San Juan son 5 cm



Entonces son _____ km de distancia real

De Sierra Fría a El Picacho hay 4 cm

Entonces son _____ km de distancia real

	a	b	c	d	e	f	g	h	i
1									
2									
3									
4									
5									

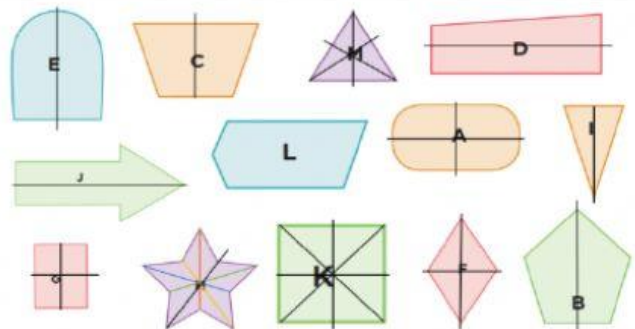
La _____ se encuentra en la columna (a) fila (3)

La _____ se encuentra en la columna (g) fila (3)

Escribe la letra de la figura:

La figura _____ no tiene ningún eje de simetría.

La figura _____ tiene cuatro ejes de simetría.



En los prestamos cobran un interés del 5% es decir \$5 pesos al mes por cada \$100
¿Cuánto pagarías de interés al mes si pides: 100, 200, 500 y 1000?

Cantidad (\$)	Interés (\$)
100	
200	
500	
1000	