

Voy a recordar todo lo aprendido sobre  
"El paisaje"



NOMBRE:


FECHA:


1. ¿Qué tipo de paisaje es? Arrastra.


montaña

costa

llanura

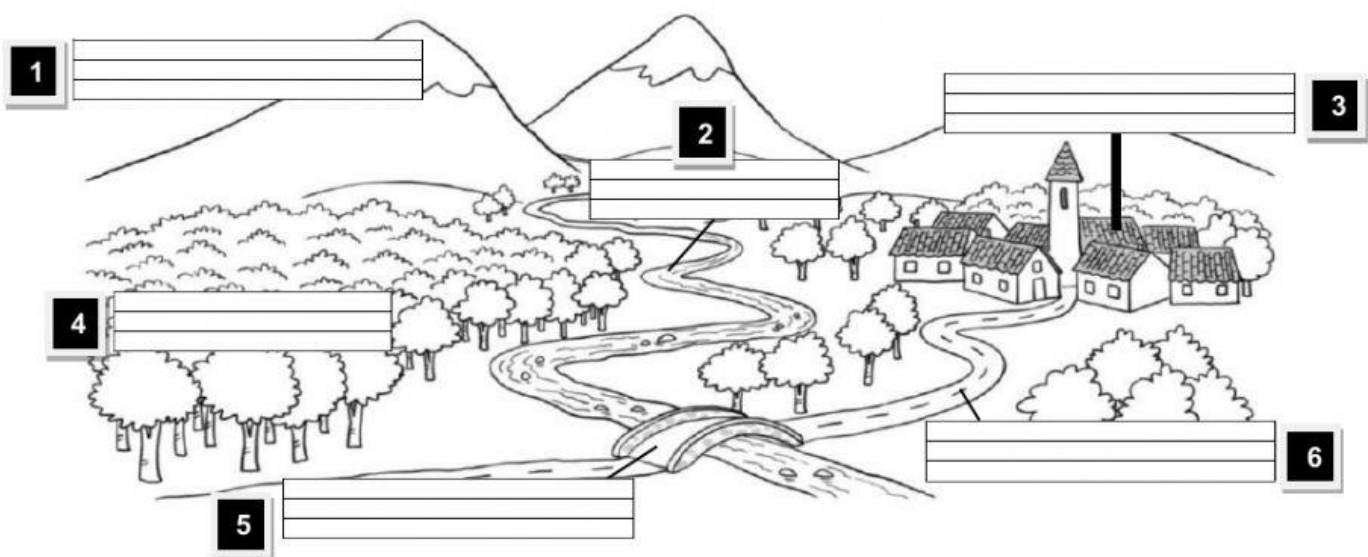

  
  


2. Escribe donde corresponda.

(EN LA PÁGINA 52 HICISTE EL EJERCICIO 1, repásalo porque puede ayudarte)

• montaña • bosque • río • puente • pueblo • carretera



## Voy a recordar todo lo aprendido sobre “El paisaje”



3. Escribe el nombre de 2 elementos naturales del paisaje y otros 2 contruidos por el hombre.

(**EN LA PÁGINA 52 HICISTE EL EJERCICIO 2, repásalo porque puede ayudarte**)

Elementos naturales del paisaje


Elementos del paisaje contruidos por el hombre


4. Une las partes de una montaña.

(**EN LA PÁGINA 54 HICISTE EL EJERCICIO 2, repásalo porque puede ayudarte**)




Ladera

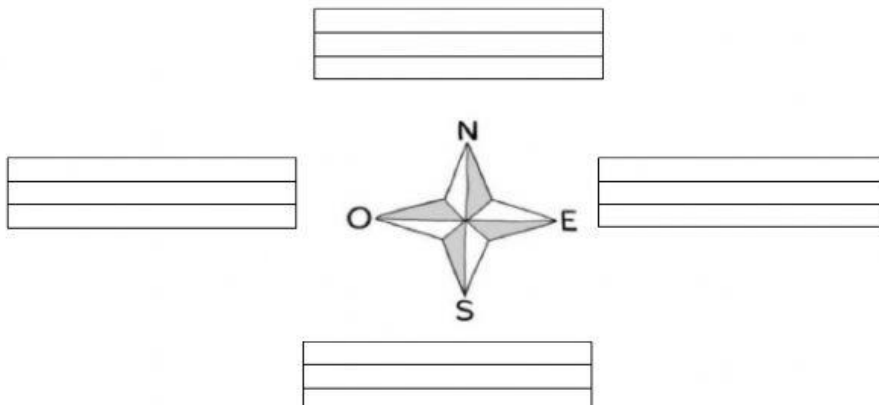
Pie

Cumbre

5. Arrastra el nombre de los puntos cardinales en la Rosa de los Vientos.

(**EN LA PÁGINA 60 HICISTE EL EJERCICIO 1, repásalo porque puede ayudarte**)

norte  
sur  
este  
oeste



6. Coloca cada elemento del paisaje en su lugar correspondiente:

Sierra	Playa	Campos de cultivo	Acantilado	Valle	
Llanura	Isla	Prado	Península	Lago	Cabo

PAISAJE DE LLANURA	PAISAJE DE COSTA

7. Une cada término con su definición correspondiente.

Valle

Conjunto de montañas unidas.

Sierra

Terreno alto y rocoso en el que chocan las olas.

Península

Terreno llano entre montañas.

Acantilado

Terreno rodeado de agua por todas partes menos por una.