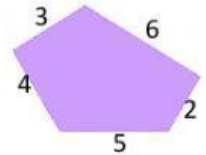
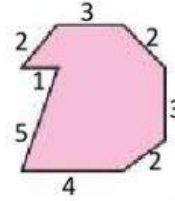
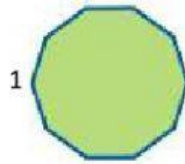
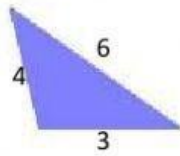



# PERÍMETRO Y POLÍGONOS

Coloca cada polígono donde corresponde. Después calcula el perímetro.



Descripción del polígono	Polígono	Operación para calcular perímetro	Perímetro
Pentágono irregular			
Triángulo irregular			
Cuadrilátero regular			
Octógono irregular			
Decágono regular			