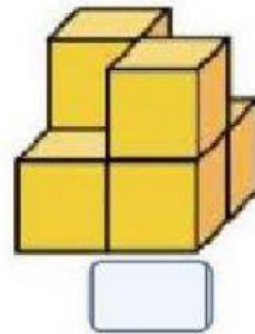
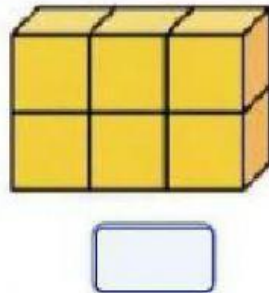
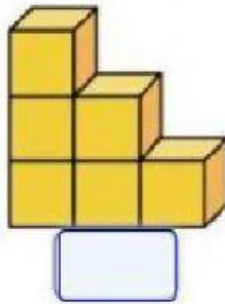
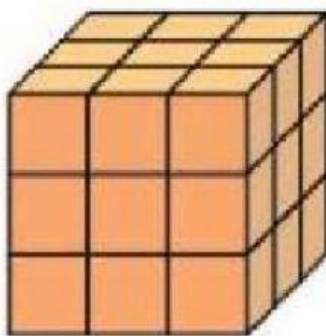


Volumen de cuerpos


1. ¿Cuántos cubos conforman las siguientes figuras? (Obsérvalos muy bien)



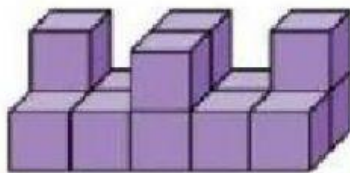
2. Si cada cubo equivale a 1 cm^3 . Selecciona cual es el volumen correcto de las siguientes figuras. (Cuenta los cubos como lo hiciste anteriormente)



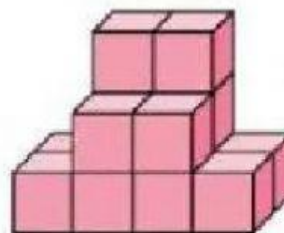
- ☐ 9 cm^3
- ☐ 18 cm^3
- ☐ 27 cm^3
- ☐ 54 cm^3



- ☐ 8 cm^3
- ☐ 13 cm^3
- ☐ 64 cm^3
- ☐ 16 cm^3



- ☐ 14 cm^3
- ☐ 12 cm^3
- ☐ 12 cm^2
- ☐ 14 cm^2



- ☐ 10 cm^3
- ☐ 14 cm^3
- ☐ 14 cm^2
- ☐ 10 cm^2

NOTA: Obsérvalos muy bien al contarlos ya que tienes que utilizar tu imaginación por los que no se alcanzan a ver en la imagen pero que también están ahí debajo o atrás de algún otro cubo.