


Nama :


## TABUNG

Kelas :

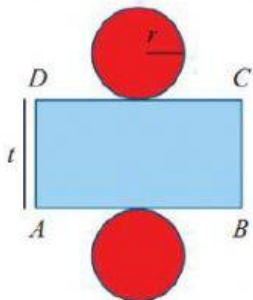
1. Perhatikan Benda – benda berikut, sebutkan bentuk bangun gambar berikut : (Pilih Jawaban Benar)



2. Luas Tabung sama dengan jumlah semua luas bangun penyusun dari jaring-jaringnya, Bangun Apa yang termasuk jaring-jaring tabung : (Tarik Garis Yang sesuai)



3. Menemukan Luas Permukaan Tabung : (Drag n Drop)



L = Luas Permukaan Tabung

= Luas Jaring – Jaring Tabung

=  +

=  +

=