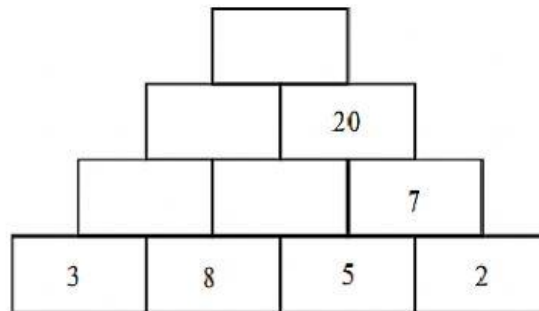


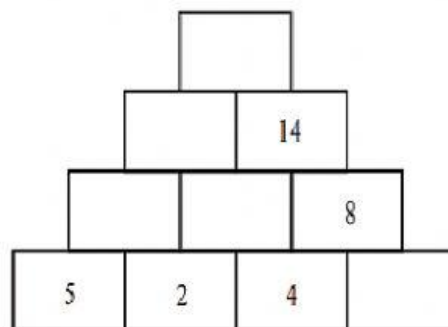
PRUEBA DIAGNÓSTICA DE RAZ. MATEMÁTICO CALIFICACIÓN
CUARTO GRADO DE PRIMARIA "B"

DOCENTE: LAURA HUAMALIAS SALCEDO	BIMESTRE: I
ESTUDIANTE:	SEMANA: 02 FECHA: 08/03/22

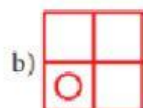

1. Completar la siguiente pirámide:



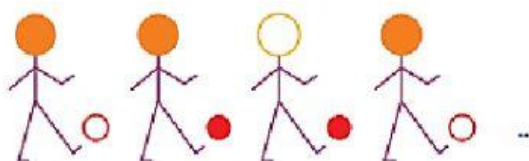
2. Completar la siguiente pirámide:






3. ¿Qué figura continua?



4. ¿Cuál de la figura continua?





5. ¿Qué figura continua?

