

PHIẾU BÀI TẬP CÙNG CÓ THỨ HAI 7-3

A. TIẾNG VIỆT

Bài 1: oăng – oăc :

l..... quãng

loăng ng.....

ng..... kếp

khua kh.....

lạ h.....

liền th.....

Bài 2: Đặt câu với từ “*thu hoạch*”

.....

Bài 3: Đọc đoạn văn sau và khoanh vào chữ cái trước ý đúng:

Trong khu rừng nọ có hai chị em nhà hoăng cùng sống trên một khoảnh đất rộng. Một hôm, thấy hoăng chị hoăng hốt, hoăng em hỏi: “Có việc gì đấy chị?” Hoăng chị mếu máo: “Cháy rừng rồi, ngôi nhà của chúng ta mất rồi”. Hoăng em an ủi chị. Rồi hai chị em nhanh chóng chạy ra khỏi cánh rừng.

Câu 1: Đoạn văn trên gồm có mấy câu?

A. 5

B. 6

C. 7

Câu 2: Hai anh em nhà hoăng cùng sống ở đâu?

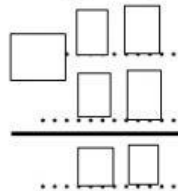
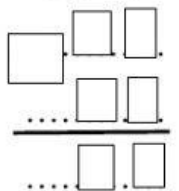
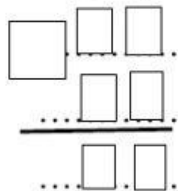
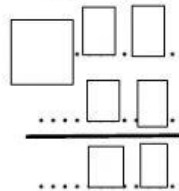
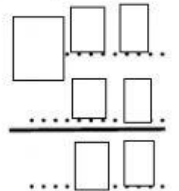
A. trên một cánh đồng

B. trên một khoảnh đất rộng

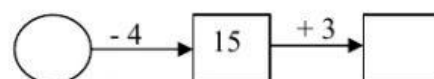
C. trên một khu vườn nhỏ xinh

B. TOÁN

Bài 1: Đặt tính rồi tính:

$25 + 4$ 	$38 - 6$ 	$79 - 7$ 	$50 + 30$ 	$7 + 52$ 
---	---	---	---	---

Bài 2: Điền vào ô trống



Bài 3 : Xếp các số: 46, 63, 80 , 95 , 25 , 11, 7.

a) Theo thứ tự **giảm dần**:

b) Theo thứ tự **tăng dần**:

c) Số tròn chục là:.....

d) Số > 25 và < 95 là:.....

Bài 4. Điền số?

a) $18 - \square = 16$

$$\square + 6 = 17$$

$$15 - \square = 13$$

$$19 - \square = 3$$

$$\square + 3 + 1 = 15$$

$$\square - 2 = 10 + 3$$

