

Alumno:

Profesora: Jetzy Barreto

fecha: 07 03 22

1.- Resuelve las siguientes adiciones:

$$\begin{array}{r} 421 + \\ 408 \\ \hline \end{array}$$

$$\begin{array}{r} 407 + \\ 312 \\ \hline \end{array}$$

2.- Resuelve las siguientes sustracciones:

$$\begin{array}{r} 825 - \\ 501 \\ \hline \end{array}$$

$$\begin{array}{r} 558 - \\ 312 \\ \hline \end{array}$$

3.- Escribe el número natural que se indica:


Lectura	Número
Setenta y dos	
Noventa y cinco	
Ochenta y cuatro	
Ciento veinte	
cincuenta	

4.- Completa:

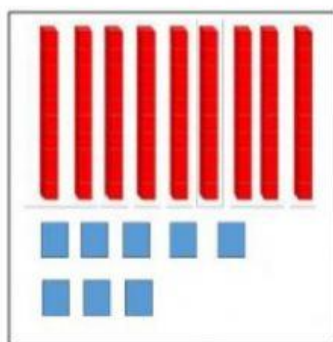
Anterior	Número	Posterior
	97	
56		
	34	
	63	
		89


5.- Marca el animal de acuerdo a las indicaciones.

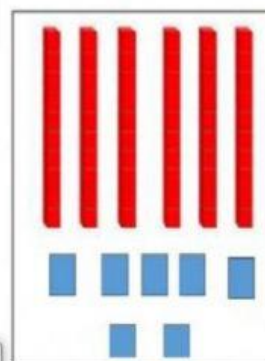
El animal que está arriba a la izquierda.

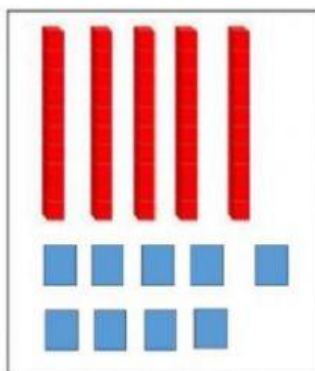



6.- ¿Qué número representa?











¡Vamos tú puedes hacerlo!

