



EJERCICIOS DE ECUACIONES


Instrucciones: Resuelve las siguientes ecuaciones en tu cuaderno para que aquí solo coloques los valores de las variables.

 $3x + 12 = 24$


$x =$

 $4y + 80 = 100$


$y =$

 $8a - 2 = 30$


$a =$

 $9m - 40 = 5$


$m =$

 $12b + 55 = 175$


$b =$

 $65c - 30 = 100$


$c =$

 $4f + 1 = 81$


$f =$

 $\frac{p}{4} + 15 = 20$


$p =$

 $\frac{u}{12} - 9 = 1$


$u =$

 $\frac{k}{8} + 1 = 10$


$k =$

 $\frac{r}{9} + 20 = 25$

$r =$

 $\frac{e}{7} + 9 = 20$

$e =$

 $\frac{q}{8} - 10 = 10$

$q =$