


Nama :


No. Absen :

Ayo Berlatih




Banyaknya apel adalah **44** buah.

44 ditulis empat puluh empat.



Banyaknya pisang adalah ____ buah.

____ ditulis _____ .



Banyaknya pepaya adalah ____ buah.

____ ditulis _____ .

Tuliskan nama atau lambang bilangan berikut ini.

57

Ditulis _____

...

Ditulis empat puluh tiga

52

Ditulis _____

Isilah titik-titik di bawah ini dengan lambang bilangan yang benar.

Gunting dan tempelkan lambang bilangan pada tempat yang benar.

41	...	43	...	45
...	47	...	49	50
51	54	...
56	...	58

Kegiatan Bersama Orang Tua



Orang tua membantu siswa menunjukkan berbagai makanan sehat yang ada di rumah.



— — — — — Gambar untuk digunting

42	44	46	48	52	53	55	57	59	60
----	----	----	----	----	----	----	----	----	----