

LENGUA

1. SELECCIONA LAS PALABRAS AGUDAS

PEZ SEMÁFORO BARDO
PERIGRIDO CAMIÓN

MATEMÁTICAS

2. RESUELVE

32 44 60
+25 +50 +30

CIENCIAS DE LA NATURALEZA

3. MIRA ESTE VIDEO



4. UNE LOS 5 SENTIDOS.



GUSTO OLFATO OÍDO TACTO VISTA

CIENCIAS SOCIALES

5. ARRASTRA LAS FASES CORRESPONDIENTES



MÚSICA

6. ¿CUÁNTOS TIEMPOS TIENE CADA SÍMBOLO?



RELIGIÓN CATÓLICA

7. SELECCIONA LA CRUZ.



EN LUSH

8. JOIN IN THE CORRECT



HOUSE

CAR

RAIN

CIENCIAS DE LA NATURALEZA

9. COMPLETA EL PÁRRAFO

El mundo está formado por... y...

LENGUA

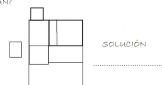
10. ESCRIBE LAS PALABRAS DEL DIBUJO



MATEMÁTICAS

PROBLEMAS

11. JUAN TIENE 666 Y MARTA 555.
JUAN FUE A COMPRAR PAN
Y SE HA GASTADO 333.
¿QUANTO DINERO LE SOBRA?



SOLUCIÓN


LECTURA

12. ESCUCHA



MÚSICA

13. ARRASTRA LAS NOTAS CORRESPONDIENTES.



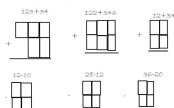
SOCIALES

14. ESCRIBE LAS CAPAS DE LA TIERRA.



MATEMÁTICAS

15. CALCULA



CIENCIAS DE LA NATURALEZA

16. ¿CUÁNTAS RAZONES VITALES TENEMOS?

1. 2. 3.

LENGUA

17. ARRASTRA SI LA PALABRA ES POLISEMICA ARRASTRA LA TABLA POLISEMICA Y SI ES HOMÓFONA TABLA DE HOMÓFONA



ES UNO VES DOS TRES CUATRO CINCO SEIS

SOCIALES

18. ESCRIBE LOS RÍOS DE LA VERDENTE SANTIAGUA

1. 2. 3.

CIENCIAS DE LA NATURALEZA

19. ¿CUÁNTOS RÍOS TIENEN LOS RÍOS VIVOS? RESUELVELO

1. 2. 3.

MATEMÁTICAS

20. CALCULA 10+20 20+30 30+40 40+50

10 20 30 40 50
+20 +30 +40 +50