


Họ và tên: ..... Lớp: .....

## PHIẾU ÔN TẬP CUỐI TUẦN 25 – LỚP 1

### MÔN TOÁN

Bài 1: Đánh dấu vào ô trống chỉ đồ vật dài hơn:

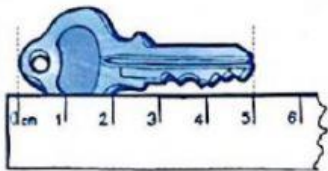


Bài 2: Số:




Bài 3: Chọn số đo thích hợp điền vào chỗ trống

(Nhấn vào mũi tên để chọn đáp án đúng)

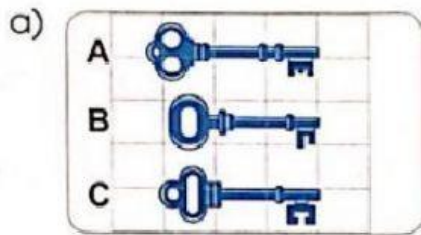


Chìa khoá dài .....



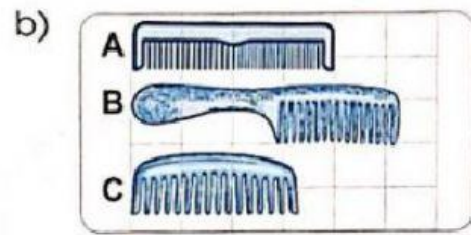
Bút chì dài .....

**Bài 4: Chọn từ “dài nhất”, “ngắn nhất” điền vào chỗ chấm:**



Chìa khoá A .....

Chìa khoá B .....



Cái lược B .....

Cái lược C .....

**Bài 5: Xem tranh và thực hiện các yêu cầu dưới đây:**



Tích chọn vào người cao nhất



Tích chọn vào người thấp nhất