


## MATEMATIKA


NAMA :



1. Jumlah sisi dari bangun di atas ini adalah ....






2. Dari ketiga bangun datar di atas, yang jumlah sisinya ada 3 adalah bangun warna ....  
3. Bangun datar berikut ini yang jumlah sudutnya ada 4 yaitu bangun yang berwarna....



4. Bangun di atas yang jumlah titik sudutnya ada 6 adalah bangun warna ....



5. Bangun datar pada bagian yang kosong adalah.....

- a.  a.  
b.  b.  
c.  c.