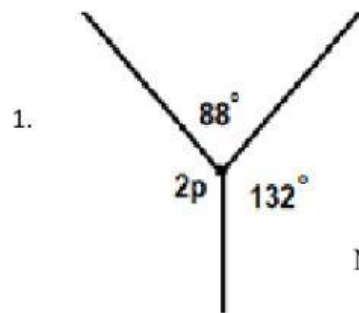


GARIS DAN SUDUT

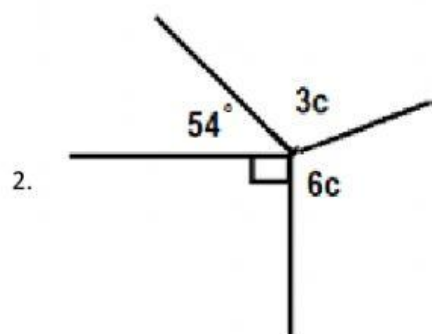
Latihan 3

Nama :

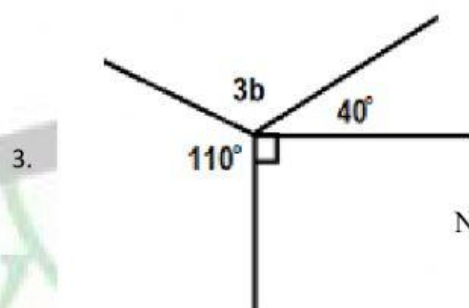
Kelas :



Nilai p adalah $^\circ$

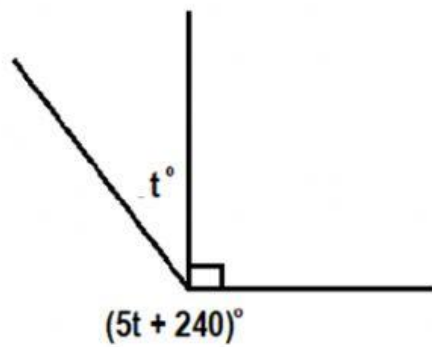


Nilai c adalah ... $^\circ$



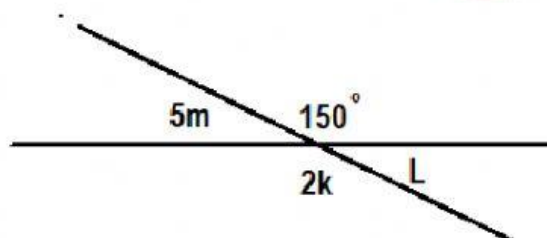
Nilai b adalah ... $^\circ$

4.



Nilai t adalah ... $^\circ$

5.

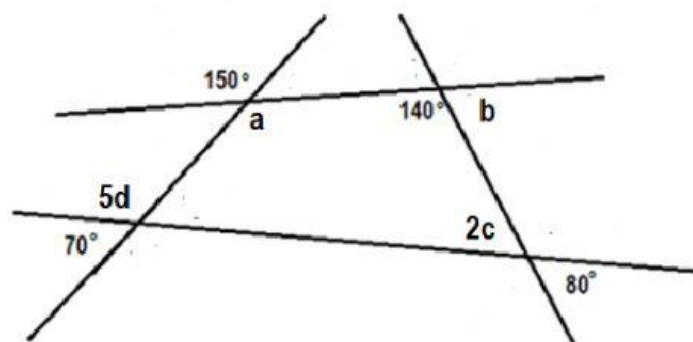


Nilai dari k adalah ... $^\circ$

Nilai dari L adalah ... $^\circ$

Nilai dari m adalah ... $^\circ$

6.



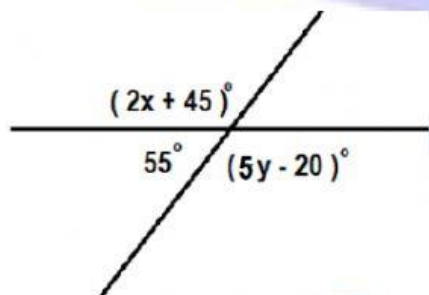
Nilai a adalah ... $^\circ$

Nilai b adalah ... $^\circ$

Nilai c adalah ... $^\circ$

Nilai d adalah ... $^\circ$

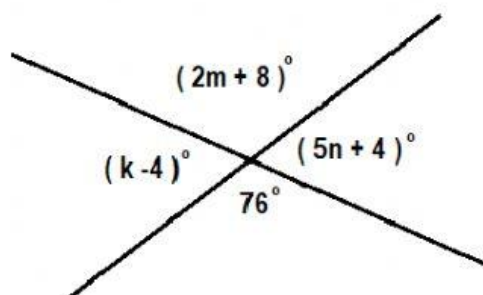
7.



Nilai dari x adalah ... $^\circ$

Nilai dari y adalah ... $^\circ$

8.



Nilai dari k adalah ... $^\circ$

Nilai dari m adalah ... $^\circ$

Nilai dari n adalah ... $^\circ$