

















REPASO DE MATEMATICA 2DO QUIMESTRE

NIVEL: 1RO E.G.B

SUMA Y ESCRIBE LA RESPUESTA CORRECTA.

	+		=	
	+		=	
	+		=	
	+		=	
	+		=	

CUAL ES LA OPERACIÓN CORRECTA ESCOGE LA RESPUESTA

1)							
<input type="checkbox"/>	6 - 3	<input type="checkbox"/>	7 - 2	<input type="checkbox"/>	8 - 3	<input type="checkbox"/>	7 - 3
2)							
<input type="checkbox"/>	6 - 3	<input type="checkbox"/>	7 - 4	<input type="checkbox"/>	6 - 4	<input type="checkbox"/>	5 - 4
3)							
<input type="checkbox"/>	8 - 5	<input type="checkbox"/>	7 - 6	<input type="checkbox"/>	8 - 7	<input type="checkbox"/>	7 - 5
4)							
<input type="checkbox"/>	8 - 5	<input type="checkbox"/>	7 - 5	<input type="checkbox"/>	9 - 6	<input type="checkbox"/>	8 - 4
5)							
<input type="checkbox"/>	8 - 4	<input type="checkbox"/>	6 - 3	<input type="checkbox"/>	9 - 3	<input type="checkbox"/>	7 - 4
6)							
<input type="checkbox"/>	10 - 5	<input type="checkbox"/>	9 - 4	<input type="checkbox"/>	9 - 3	<input type="checkbox"/>	10 - 4

