

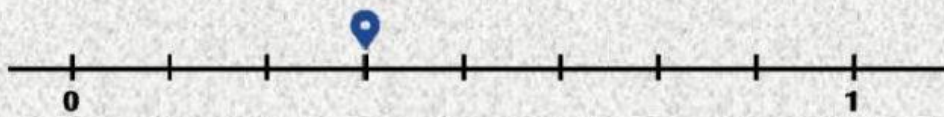
Intención didáctica: Reconocer la relación que guardan entre sí las diversas representaciones de una fracción y utilizarlas para abreviar pasos.

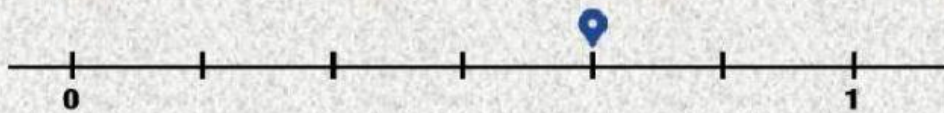
Actividad: Ubicar fracciones en la recta

Fracciones

Ubicación en la recta numérica (Ficha 03).

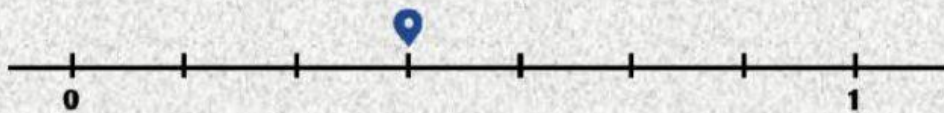
- Escribe la fracción señalada en las siguientes rectas numéricas












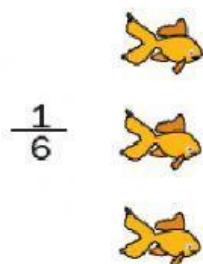
Actividad 2: En tu cuaderno, dibuja y realiza lo que se te pide.

Considera la fracción y dibuja lo que falta para completar la unidad.
Observa el ejemplo

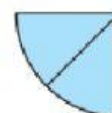


Tres estrellas son una tercera parte, entonces ¿Cuántas estrellas será la unidad?

Como tres estrellas son $\frac{1}{3}$, pues solo me falta dibujar otros $\frac{2}{3}$, es decir dos veces tres estrellas.



$$\frac{2}{8}$$



$$\frac{2}{7}$$



Actividad 3:

- Escribe la fracción señalada en las siguientes rectas numéricas

