


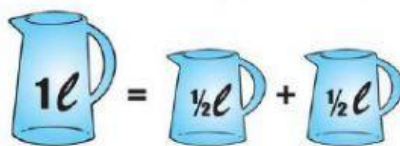
EL LITRO

1.- Escucha el video

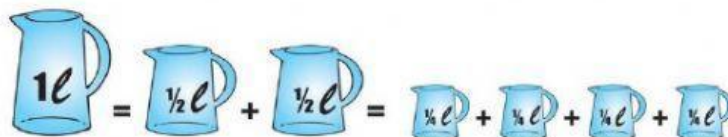


$\frac{1}{2}$ = medio litro

$\frac{1}{4}$ = un cuarto de litro



Con dos jarras de $\frac{1}{2}$ l
tenemos 1 l



Con 4 jarras de $\frac{1}{4}$ l
Tenemos 1 l

2.- Escribe los litros que hay en cada caso:

