

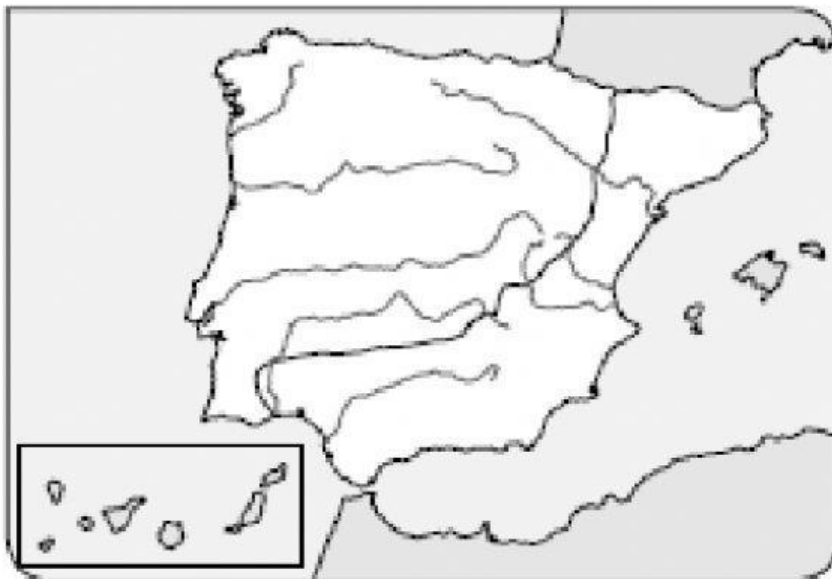
HISTORIA

EDAD ANTIGUA



Al principio de la Edad Antigua, la península ibérica estaba ocupada por dos pueblos: los **celtas** y los **íberos**.


1.- Une cada pueblo con su lugar de influencia en el mapa.



Área de influencia
celta

Área de influencia
íbera

2.- Observa la fotografía de este poblado y marca la opción correcta.



•Las casas son:

☐ rectangulares.

☐ circulares

•Las casas están dispuestas de
forma:

☐ ordenada

☐ desordenada

•Se trata de un poblado:

☐ celta

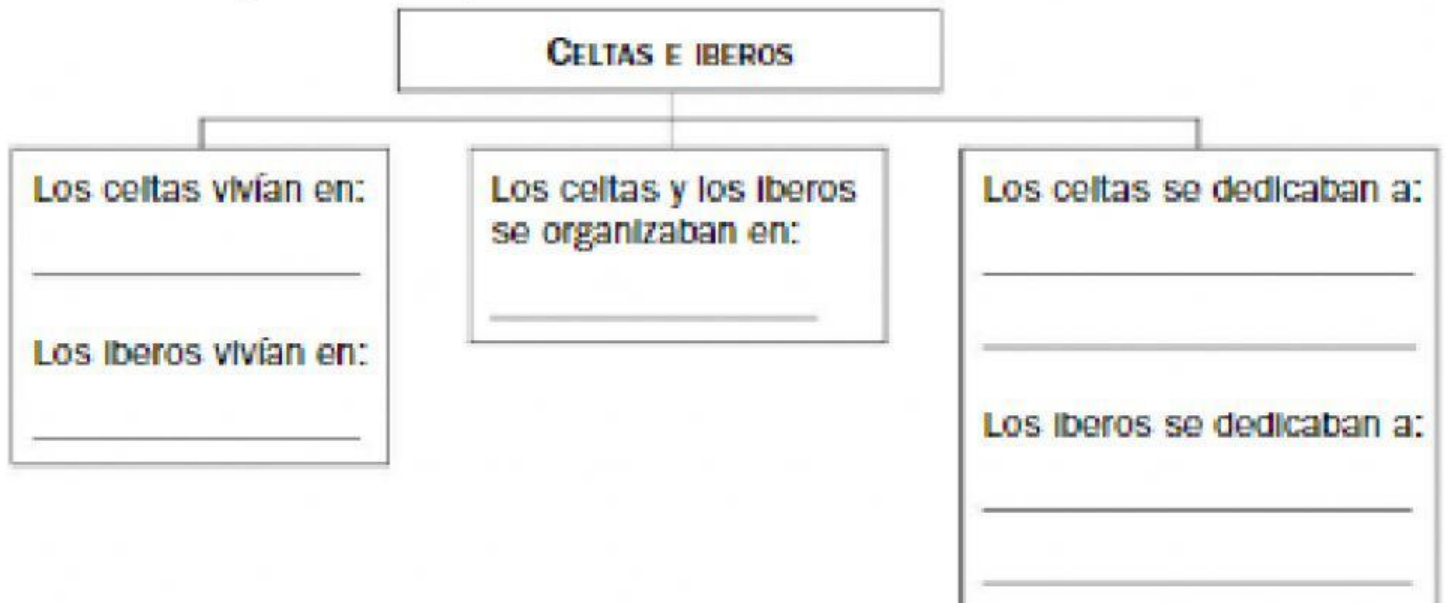
☐ íbero

HISTORIA

EDAD ANTIGUA



3.- Completa el esquema.



4.- Elige en cada caso el pueblo del que se trata.

- Llegaron a la Península en el siglo VII a.C. y se instalaron en la costa andaluza.
- Llegaron a la Península en el siglo VI a.C. y se instalaron en la costa de Cataluña.
- Llegaron a la Península en el siglo III a.C. y se instalaron en las Islas Baleares y en el este de la Península.