





Ayo Berlatih




Banyaknya apel adalah **44** buah.

44 ditulis empat puluh empat.



Banyaknya pisang adalah ____ buah.

____ ditulis _____.



Banyaknya pepaya adalah ____ buah.

____ ditulis _____.

Tuliskan nama atau lambang bilangan berikut ini.

57

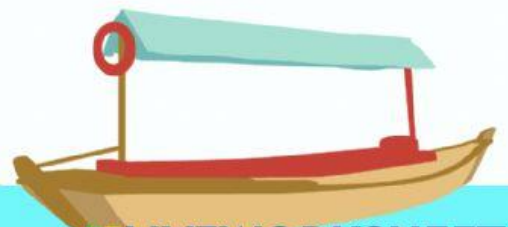
Ditulis _____

...

Ditulis empat puluh tiga

52

Ditulis _____



Isilah titik-titik di bawah ini dengan lambang bilangan yang benar.

