
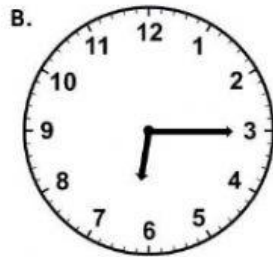


Nama :

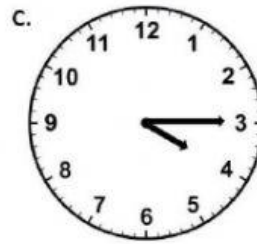
Kelas :



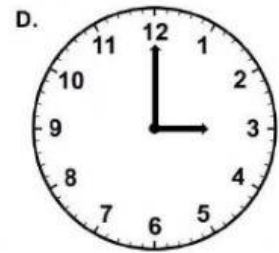
03.00



06.15



08.30



04.15

2 minggu 4 hari

1 jam 10 menit

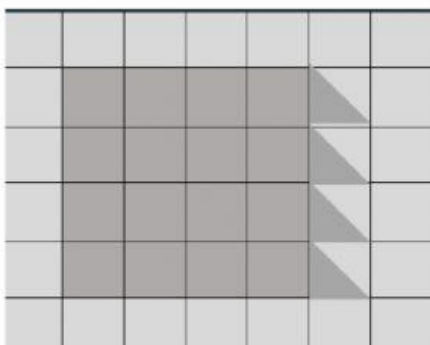
3 minggu 2 hari

23 hari

18 hari

70 menit

Luas bagian yang diarsir adalah



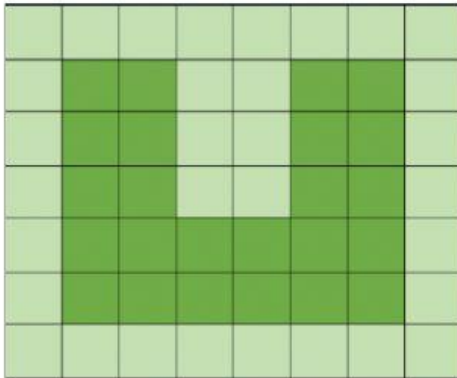
20 persegi satuan

21 persegi satuan

18 persegi satuan

16 persegi satuan

Luas bagian yang diarsir adalah



20 persegi satuan

24 persegi satuan

21 persegi satuan

22 persegi satuan

Aqila akan pergi ke rumah nenek , Aqila berangkat pukul 08.00. Jika dibutuhkan waktu 2 jam untuk sampai ke rumah nenek maka pukul berapakah Aqila tiba ?

11.00

12.00

13.00

10.00

Ibu setiap hari menjahit baju selama 3 jam. Jika setiap hari ibu mulai menjahit pukul 09.00, pukul berapakah ibu akan selesai menjahit ?

12.00

11.00

10.00

13.00

Ayah pergi ke kantor pukul 08.00 dan sampai di kantor pukul 08.30. Berapa lamakah perjalanan ayah ke kantor ?

30 menit

60 menit

20 menit

40 menit