



# Lembar Kerja Peserta Didik

## MATEMATIKA PECAHAN



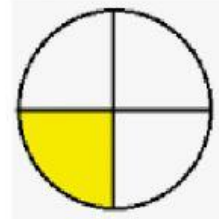
Nama :

Kelas :

Cocokkan gambar pecahan dibawah ini dengan menarik garis pada angka pecahan yang benar !

1.

$$\frac{1}{2}$$



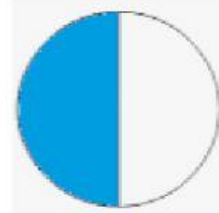
2.

$$\frac{1}{3}$$



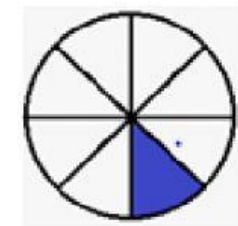
3.

$$\frac{1}{4}$$



4.

$$\frac{1}{6}$$



5.

$$\frac{1}{8}$$

