

Los triángulos

ARRASTRA EL NOMBRE DE CADA TRIÁNGULO

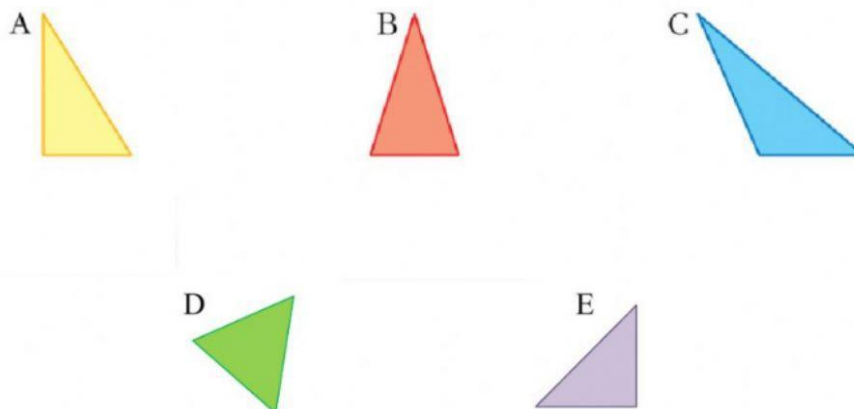
Clasificación de los triángulos

Según sus lados	Según sus ángulos
 <p>Tiene sus TRES lados IGUALES.</p>	 <p>Tiene 1 ángulo RECTO</p>
 <p>Tiene sus DOS lados IGUALES.</p>	 <p>Tiene 3 ángulos AGUDOS</p>
 <p>No tiene NINGUNO de sus lados iguales.</p>	 <p>Tiene 1 ángulo OBTUSO</p>

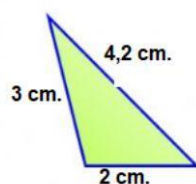
Este es un material elaborado por: Fátima Alamo
http://andrea80.com

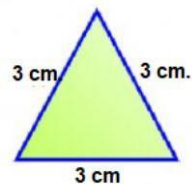
EQUILATERO	ISÓSCELES	ESCALENO
ACUTÁNGULO	RECTÁNGULO	OBTUSÁNGULO

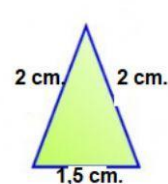
Clasifica estos triángulos según sus lados y según sus ángulos



1. Clasifica los siguientes triángulos según sus lados (asegúrate de que escribes correctamente el nombre).







2. Clasifica los siguientes triángulos según sus ángulos (asegúrate de que escribes correctamente el nombre).

