

Latihan Soal Kisi-Kisi Penilaian Tengah Semester Genap

1.



Simbol sila kedua adalah rantai.

Mata rantai persegi melambangkan

- a. perempuan
- b. laki-laki
- c. wanita

2. Contoh perilaku yang sesuai dengan sila kedua Pancasila adalah

- a. menolong teman yang terjatuh
- b. mengganggu teman yang sedang belajar
- c. tidak menghormati orang yang lebih tua

3. Berikut merupakan contoh aturan bermain di rumah adalah

a.



Bermain bola di dalam rumah.

b.



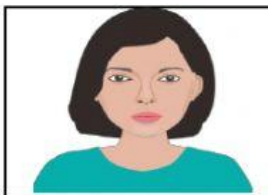
Bermain dengan rukun.

c.



Tidak merapikan mainan setelah bermain.

4.



Ciri fisik anggota keluarga dapat dilihat dari

- a. hobi
- b. hidung
- c. sikap

5.



Bekerja sama menjaga kebersihan rumah merupakan kewajiban

- a. semua warga
- b. seluruh anggota masyarakat
- c. semua anggota keluarga

6.



Berikut yang termasuk kalimat pujian adalah

- a. Ayo, kita bermain!
- b. Tina, suaramu merdu sekali.
- c. Tolong ambilkan buku, ya.

7.



Meminta maaf sebaiknya diucapkan dengan

- a. marah
- b. teriak
- c. tulus

8.



Kalimat ajakan yang tepat sesuai pada gambar di samping adalah

- a. Ayo, Jonas kita bermain bola!
- b. Budi mengajak Jonas bermain bola.
- c. Apa yang kamu lakukan disini, Jonas?

9. Perhatikan bait puisi berikut!

Saat lelah
Bunda tetap bekerja
Bunda adalah orang terhebat
Bunda selalu ada sepanjang
masa

Ungkapan kekaguman pada puisi di samping adalah

- a. orang terhebat
- b. saat lelah
- c. tetap bekerja

10. Bagian-bagian puisi terdiri dari bait dan

- a. baris
- b. garis
- c. penggaris

11. Gambar benda yang banyaknya 33 adalah



12. Lambang bilangan dari dua puluh enam adalah


- a. 27
- b. 26
- c. 28


13. Urutan bilangan dari yang terbesar adalah

- a. 21, 25, 32, 37
- b. 39, 30, 27, 21
- c. 24, 28, 26, 40


14. Penjumlahan berikut yang benar adalah

- a. $23 + 11 = 34$
- b. $14 + 21 = 36$
- c. $13 + 16 = 28$


15.  Kakak memiliki 19 kelereng.
Adik memiliki 10 kelereng.
Banyak kelereng mereka semuanya adalah
- a. 28
 - b. 27
 - c. 29


16.  Berikut yang termasuk bahan untuk membuat bubur kertas adalah
- a. lem kayu, koran, dan air
 - b. minyak, kertas, dan lem
 - c. garam, air, dan koran

17. Tempo adalah cepat lambat ketukan pada
- a. puisi
 - b. tarian
 - c. lagu

18.  Perhatikan gambar di samping.
Gambar di samping memperagakan
- a. gerak lurus
 - b. gerak tumbuhan air
 - c. gerak miring

19. Berikut ini yang termasuk bahan alam adalah



20.  Bahan alam yang digunakan pada hiasan di samping adalah
- a. kulit telur
 - b. daun kering
 - c. kulit jeruk