


MỘT NỬA CỦA SỐ CHẴN

BÀI TẬP TỰ LUYỆN

1. Một nửa số táo trong hình bên dưới là quả.



2. Một nửa số trái tim trong hình là:

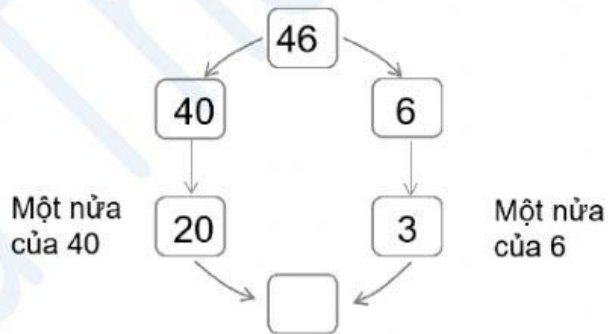


3. Một nửa của 8 là:

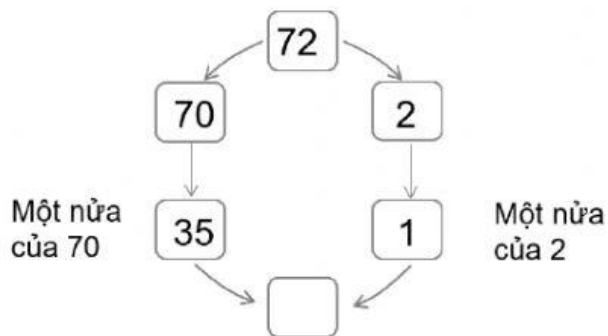
4. Hình được tô màu một nửa là:



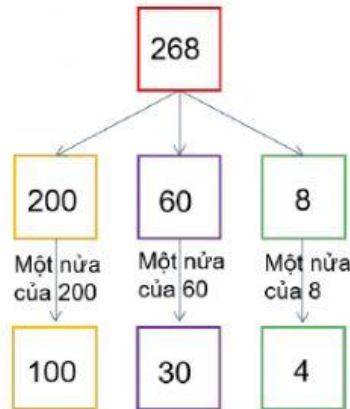
5. Điền số thích hợp vào ô trống.



6. Tìm một nửa của 72.



7. Một nửa của 268 là:



8. Một giỏ táo có 14 quả táo. Mẹ lấy đi một nửa số táo trong giỏ. Trong giỏ còn lại bao nhiêu quả táo ?

- A. 6 quả. B. 12 quả. C. 8 quả. D. 7 quả.

9. Mua 4 cây kem phải trả 10 xu. Mua 2 cây kem như vậy phải trả bao nhiêu tiền ?

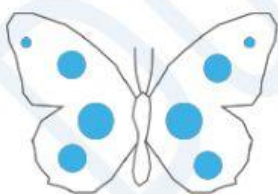


- A. 5 xu. B. 4 xu. C. 6 xu. D. 10 xu.

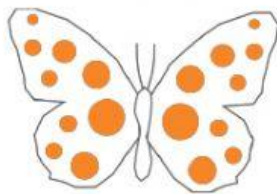
10. Lớp 2A có 26 học sinh. Một nửa số học sinh chơi ở ngoài sân trường, một nửa còn lại trong phòng học. Số học sinh ở trong phòng học là:

Phần tự luận

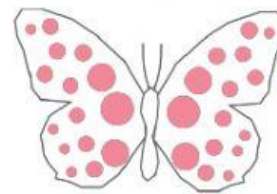
1. Tìm một nửa của một số.



Một nửa của 8 = ____



Một nửa của 18 = ____



Một nửa của 30 = ____



Một nửa của 32 = ____



Một nửa của 36 = ____



Một nửa của 54 = ____

2. Điền số thích hợp vào chỗ chấm.

Một nửa của 6 =

Một nửa của 40 =

Một nửa của 46 = một nửa của + một nửa của = + =

Một nửa của 4 =

Một nửa của 70 =

Một nửa của 74 = một nửa của + một nửa của = + =

Một nửa của 8 =

Một nửa của 90 =

Một nửa của 98 = một nửa của + một nửa của = + =

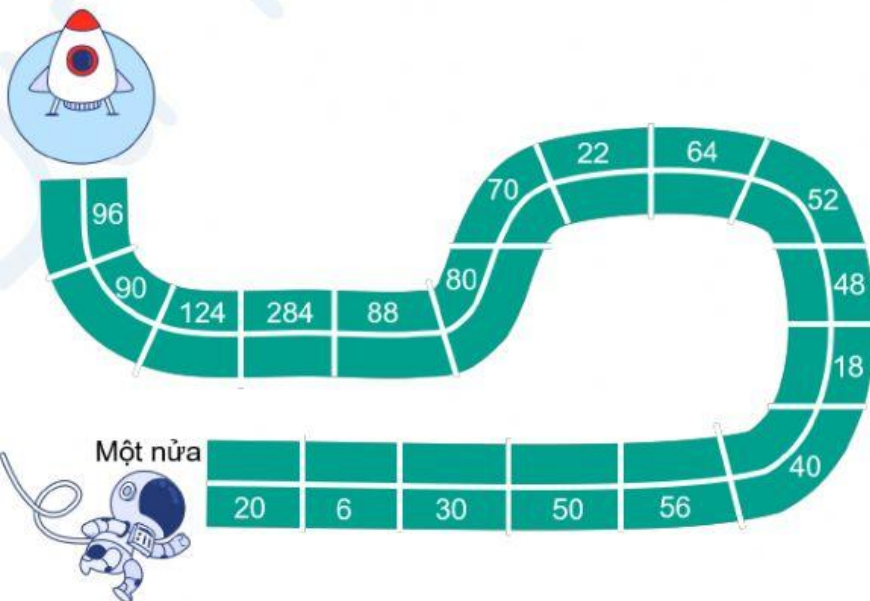
3. Tìm một nửa của số có ba chữ số.

Một nửa của 284 = một nửa của + một nửa của + một nửa của
 = + + =

Một nửa của 576 = một nửa của + một nửa của + một nửa của
 = + + =

Một nửa của 858 = một nửa của + một nửa của + một nửa của
 = + + =

4. Tìm một nửa của các số trên đường đi và ghi lại kết quả vào nửa con đường để giúp du hành gia về đến con tàu.



The path consists of several segments with numbers: 96, 90, 124, 284, 88, 80, 70, 22, 64, 52, 48, 18, 40. A rocket is at the start and an astronaut is at the end.

Một nửa

20	6	30	50	56
----	---	----	----	----

5. Đầu năm học, mẹ mua cho Bin 1 hộp bút. Trong hộp có 16 chiếc bút. Hết học kì I, Bin đã dùng hết một nửa số bút đó. Bin còn lại bao nhiêu bút ?

.....

.....

.....

.....

.....

Dur Thanh Mai