

**Lembar Kerja
Peserta Didik**
Soal B. Indonesia, Matematika, dan SBdP


Nama : _____

Nomor Presensi : _____

Pilihlah satu jawaban yang paling benar!

A. B. Indo (Perhatikan lirik lagu berikut untuk soal nomor 1-5)!

Bintang kecil di langit yang biru

Amat banyak menghias angkasa

Aku ingin terbang dan menari

Jauh tinggi ke tempat kau berada

1. Bintang kecil berada di ...
 - a. bumi
 - b. langit
 - c. laut
2. Bintang yang banyak menghiasi ...
 - a. alam
 - b. pegunungan
 - c. angkasa
3. Aku ingin terbang dan
 - a. menari
 - b. melayang
 - c. diam
4. Jauh ... ke tempat kau berada
 - a. terbang
 - b. dekat
 - c. tinggi
5. Lagu di atas menceritakan tentang
 - a. bintang jauh
 - b. bintang bumi
 - c. bintang kecil
6. Matahari terbenam di sebelah
 - a. timur
 - b. barat
 - c. utara
7. Saat matahari terbit suasana alam menjadi
 - a. terang
 - b. gelap
 - c. gulita

8. Benda langit yang bertebaran di malam hari adalah

- a. Bulan b. bintang c. matahari

9. Bulan berikut ini  disebut bulan

- a. Sabit b. separuh c. purnama

10. Kita dapat melihat bintang di langit menggunakan

- a. Teleskop b. mikroskop c. stetoskop

B. Matematika

11. Ibu membeli 30 butir telur ayam. Ketika sampai di rumah ternyata ada yang pecah 7 butir telur. Berapa sisa telur yang masih utuh?

- a. 24 butir b. 23 butir c. 22 butir

12. $53 - 21 = \dots$

- a. 32 b. 33 c. 34

13. Ada 41 liter minyak di dalam drum. Ayah mengisi lagi 15 liter. Berapa liter minyak sekarang?

- a. 65 b. 66 c. 56

14. $38 + 21 = \dots$

- a. 39 b. 49 c. 59

15. Bilangan berikut ini mengalami loncat



- a. 2 b. 3 c. 4

16. Bilangan berikut ini mengalami loncat



- a. 2 b. 3 c. 4

17. Bilangan yang tepat mengisi pola bilangan loncat 3 adalah



- a. 14, 17, 20 b. 14, 16, 18 c. 14, 15, 16

18. Bilangan yang tepat mengisi pola bilangan loncat 5 adalah




- a. 30, 35, 40 b. 25, 30, 35 c. 30, 40, 50

19. Tanda yang tepat untuk perbandingan dua bilangan berikut adalah



- a. = b. < c. >

20. Tanda yang tepat untuk perbandingan dua bilangan berikut ini adalah



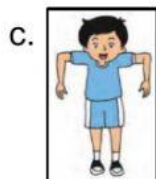
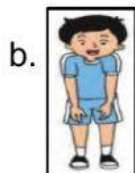
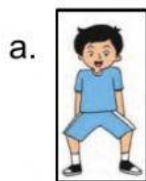
- a. = b. < c. >

C. SBdP

21. Lagu yang memiliki tempo cepat adalah

- a. Burung Kakaktua
b. Bunda Piara

- c. Topi Saya Bundar
22. Lagu yang memiliki tempo lambat adalah
- Burung Kakaktua
 - Bunda Piara
 - Cicak di Dinding
23. Tanda pendek pada lagu "Topi Saya Bundar" berada di
- awal lagu
 - belakang lagu
 - akhir lagu
24. Tanda panjang pada lagu "Topi Saya Bundar" berada di ...
- awal lagu
 - tengah lagu
 - akhir lagu
25. Peralatan menggambar adalah
- tanah liat
 - buku gambar
 - kuas
26. Gambar lebih indah jika diberi
- krayon
 - cat
 - air
27. Gerakan menirukan tumbuhan menguncup adalah ...



28. Gambar berikut ini menirukan tumbuhan...



- a. tinggi
- b. rendah
- c. ditiup angin



29. Contoh bahan alam adalah

- a. botol mineral
- b. tanah liat
- c. plastik

30. Bahan alam bulu ayam dapat dibuat karya ...



Alhamdulillah...

Aku bisa!