

Tên:.....

TOÁN

1) Khoanh vào chữ cái trước câu đúng:

Hàng nào có nhiều đồ chơi hơn :



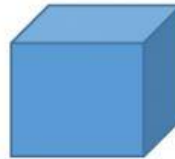
2) Khoanh vào chữ cái trước câu đúng:

Hình vẽ bên là hình gì?

A. Khối hộp chữ nhật

B. Khối lập phương

C. Hình vuông




3) Khoanh vào chữ cái trước câu đúng:

Hình vẽ bên là hình gì?

A. Hình tam giác

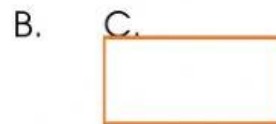
B. Hình chữ nhật

C. Hình vuông



4) Khoanh vào chữ cái trước câu đúng:

Trong các hình sau, hình nào là khối hộp chữ nhật:



5) Đánh dấu chéo (x) vào câu đúng:


Hình bên là hình gì ?

<input type="checkbox"/>
<input type="checkbox"/>
<input type="checkbox"/>

Hình chữ nhật

Khối hộp chữ nhật

Khối hộp lập phương



6) Khoanh vào chữ cái trước câu đúng

Hình được vẽ tiếp theo là hình gì?

A. \triangle

B. \square

C. \bigcirc



7) Khoanh vào chữ cái trước câu đúng:

Trong hình bên dưới, có bao nhiêu quả dâu tây?



A. 4

B. 5

C. 6

8) Khoanh số lớn nhất trong các số sau

4 2 5 8

9) Đúng ghi đ, sai ghi s vào ô trống:

$9 - 5 = 4$

$2 + 7 < 10$

$3 + 6 > 9$


$8 - 5 = 3$

10) Điền dấu $> < =$

$5 - 1$	<input type="text"/>	5
$3 + 4$	<input type="text"/>	$5 + 1$
8	<input type="text"/>	5

$2 + 0$	<input type="text"/>	$0 + 2$
$4 + 4$	<input type="text"/>	$10 - 2$
9	<input type="text"/>	6

11) Viết số vào ô trống và điền dấu $> < =$



--	--	--