

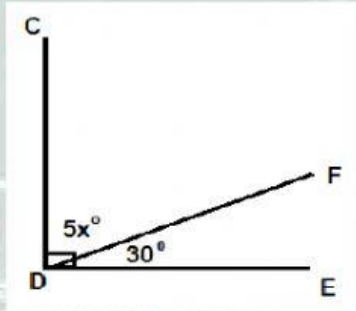
Nama :

Kelas :

GARIS DAN SUDUT

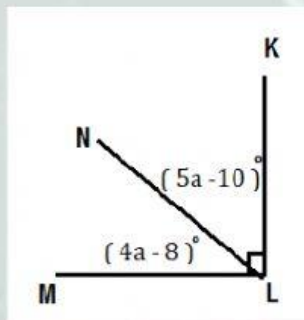
Latihan 2

1.



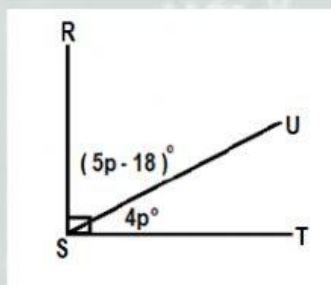
Nilai x adalah ... $^\circ$

2.



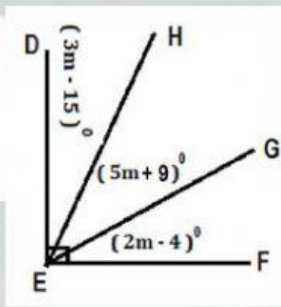
Besar $\angle MLN$ adalah ... $^\circ$

3.



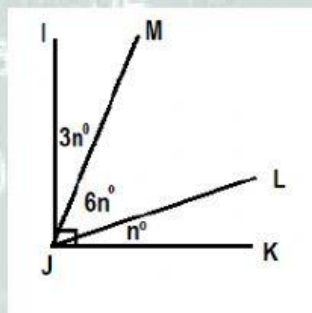
Besar $\angle RSU$ adalah ... $^\circ$

4.



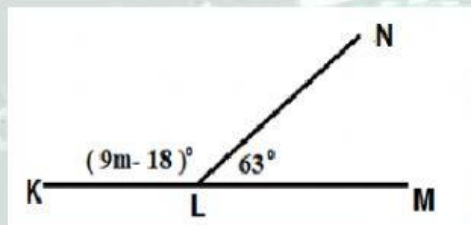
Besar $\angle DEG$ adalah ... $^{\circ}$

5.



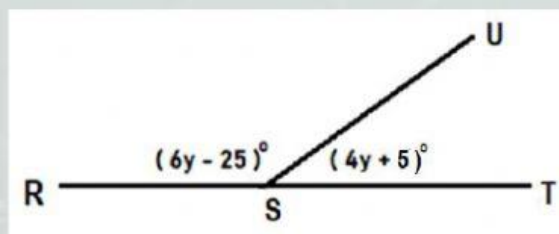
Besar $\angle MJL$ adalah ... $^{\circ}$

6.



Besar $\angle KLN$ adalah ... $^{\circ}$

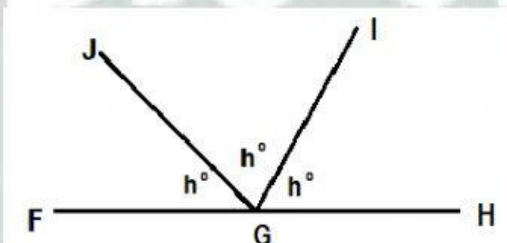
7.



Besar $\angle UST$ adalah ... $^{\circ}$

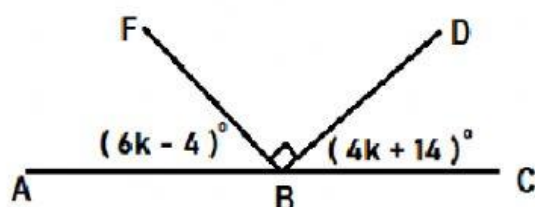
TYPES of ANGLE

8.



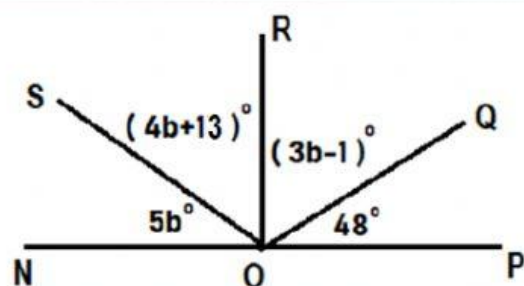
Besar $\angle HGI$ adalah ... $^{\circ}$

9.



Besar $\angle FBA$ adalah ... $^{\circ}$

10.



Besar $\angle SOQ$ adalah ... $^{\circ}$