

Nama :

Kelas :

1. Berapakah berat benda-benda berikut ?



Berat tempat pensil =



Berat gunting =

2. Perbandingan yang tepat berdasarkan gambar di atas adalah ...

3. Perhatikan gambar berikut.

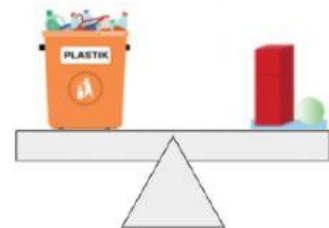
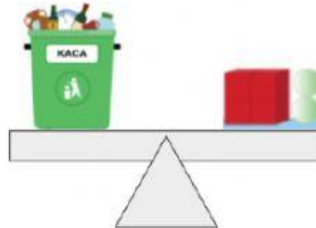
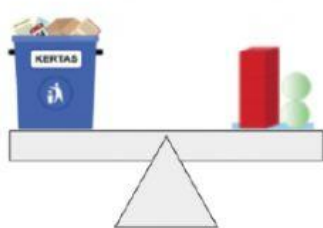


Berdasarkan gambar di atas, maka buku



dari bola.

4. Perhatikan gambar berikut.



Urutan benda dari yang paling ringan adalah

5. Perhatikan gambar berikut :



Satuan tak baku yang digunakan untuk menimbang benda di atas adalah

Buah yang paling berat adalah