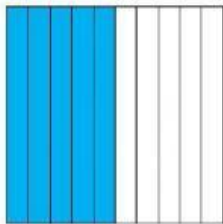
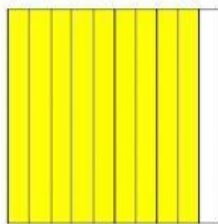


NÚMEROS DECIMALES

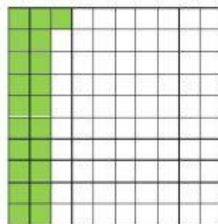
1.- Escribe la parte sombreada en forma decimal.




a)



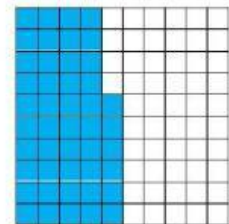
b)



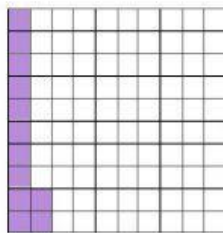
c)



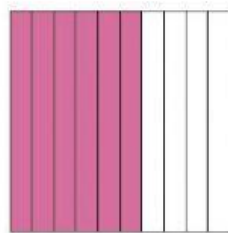
d)




e)




f)




g)



h)



i)



j)

2.-¿Qué número es?

a) $7 D + 2 U + 5 d + 9 c \rightarrow$

e) $4 U + 8 d + 7 c \rightarrow$

b) $4 U + 3 d + 1 c \rightarrow$

f) $1 D + 1 c \rightarrow$

c) $6 D + 2 d + 4 c \rightarrow$

g) $5 d + 6 c \rightarrow$

d) $8 D + 5 U + 3 c \rightarrow$

h) $9 D + 9 d \rightarrow$

3.- Escribe con cifras.

a) Quince coma cuarenta y dos \rightarrow

e) Tres unidades y una décima \rightarrow

b) Cinco unidades y una centésima \rightarrow

f) Veinte coma noventa y cinco \rightarrow

c) Ochenta coma treinta y seis \rightarrow

g) Doce coma cero nueve \rightarrow

d) Dos unidades y ocho décimas \rightarrow

h) Nueve unidades y dos décimas \rightarrow

5.- Sitúa en esta recta numérica de los siguientes números:

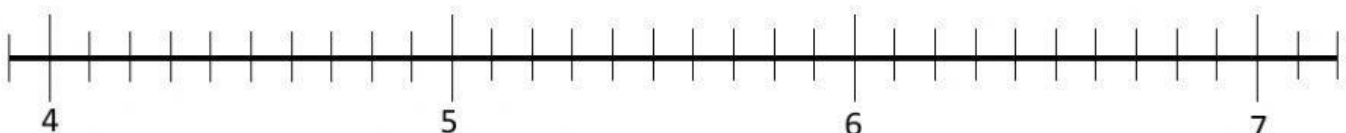
A = 6,3

B = 5,8

C = 7,1

D = 6,5

E = 3,9



6.- Indica a qué número corresponde cada letra en la recta.

A = B = C = D = E =

