

Evaluación de Matemática

Nombre:.....

Fecha:.....

1. Relaciona la escritura con los números respectivos:

Novecientos veinte

741

Seiscientos ocho

608

Ochocientos cincuenta y tres

409

Setecientos cuarenta y uno

853

Cuatrocientos nueve

920

2. Arrastrar el número y relacione con la descomposición:

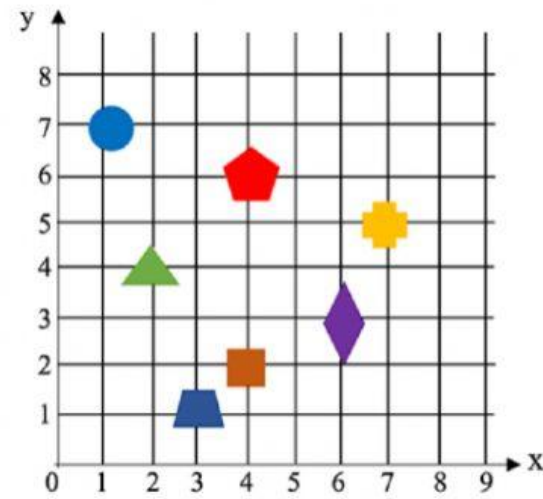
$9C + 0D + 1U$


$800 + 60 + 3$


$7C + 4D + 9U$

749	
901	
863	

3. Observar e identifica las coordenadas correctas:



 (.....,.....)

 (.....,.....)

