




	Matemática	Prof. ^a Ana Lucia Maia	
	Atividade: Revisão - Números Romanos	Em 04/03/2022	
	Nome:	Nº 6º ano	


1) Em que ano foram construídos os seguintes monumentos:

 <p>PRAGA</p> <p>MCCCLVII</p> <input type="text"/>	 <p>BILBAO</p> <p>MDX</p> <input type="text"/>	 <p>BURGOS</p> <p>MCCXXI</p> <input type="text"/>	 <p>SANTIAGO</p> <p>MCCXI</p> <input type="text"/>
--	--	--	--

2) Ligue os números Romanos com sua escrita no sistema decimal:

	DXII	33	
CXLV	58		
MCCXXXII	145		
MCMLXXVIII	276		
XXXIII	512		
VDCCXII	1.232		
XVCLX	1978		
LVIII	3.567		
MMMDLXVII	5.712		
CCLXXVI	15.160		

3) Coloque os números Romanos na ordem **crescente** (Menor para Maior):



CLXIX	CLXXVI	CXLIX	CXLVII
<input type="text"/>	<input type="text"/>	<input type="text"/>	<input type="text"/>

4) Escreva os números Romanos em números decimais:

XV	<input type="text"/>	LV	<input type="text"/>
XXIX	<input type="text"/>	XLV	<input type="text"/>
CXV	<input type="text"/>	CCVI	<input type="text"/>
CCXVII	<input type="text"/>	CCCLXXVII	<input type="text"/>
DCCXII	<input type="text"/>	MMMCCC	<input type="text"/>
MMCDLXV	<input type="text"/>	V̄MDCLVII	<input type="text"/>

