



**3º** ¿Qué tipos de paisaje son estos? Nómbralos y escribe los números donde corresponda.

1 Montaña

2 Isla

3 Playa

4 Llanura

5 Río

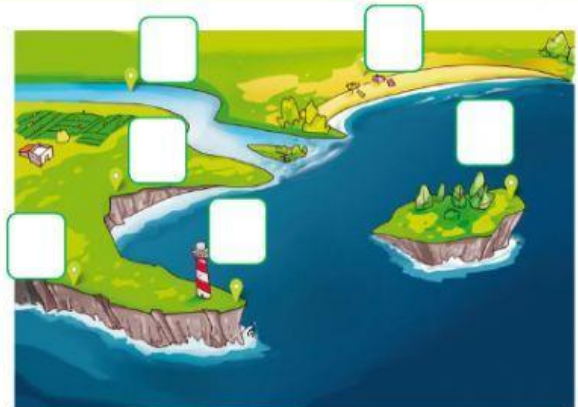

5

6 Acantilado

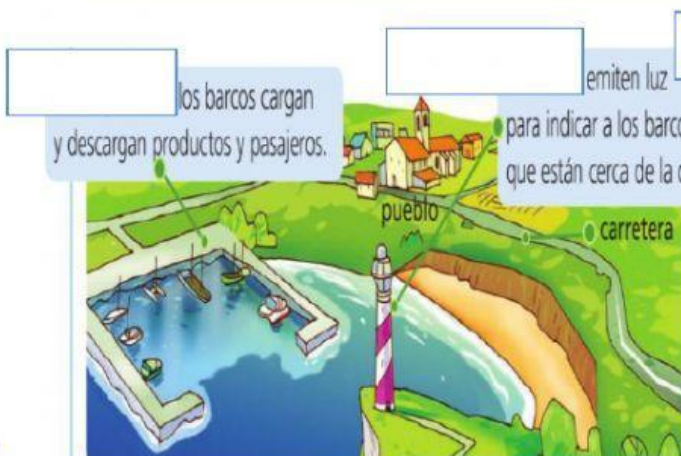
7 Cabo

8 Golfo


9 Valle



**4º** Completa con el nombre de los elementos artificiales de los paisajes que corresponda.



Fíjate en el dibujo y elige los elementos que ha construido el ser humano y los elementos naturales.



Natural

Artificial

**5º** Elige a qué elemento artificial del paisaje se refiere cada definición.

Proporciona las rocas para construir edificios:

\_\_\_\_\_

Emite señales luminosas para guiar a los barcos:

\_\_\_\_\_

Une las dos orillas de un río:

\_\_\_\_\_

**Completa la siguiente oración.**

En los espacios protegidos está prohibido

\_\_\_\_\_

¿Qué es un área protegida?

