


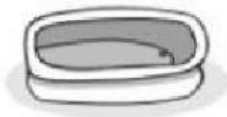


# MEDIDAS DE CAPACIDAD

Ordena de mayor a menor los nombres de los dibujos, teniendo en cuenta la cantidad de líquido que cabe en cada uno.



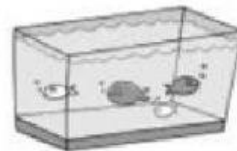
¿Qué capacidad tiene cada uno de estos recipientes? Señala la respuesta correcta.



3 litros - 300 litros



5 litros - 50 litros



1 000 litros - 1 litro


Completa

LITRO	MEDIO LITRO	CUARTO DE LITRO
4		
9		
12		

Calcula cuánto cuesta un litro de cada producto.

- a) Dos litros de zumo de naranja vale 4 euros → .....
- b) Una botella de agua de un cuarto de litro vale 50 centimos → .....
- c) Un bote de litro y medio de suavizante vale 3 euros → .....
- d) Un cartón de tomate frito de medio litro vale 1 € 50 cent. → .....

*Fíjate en los recipientes y completa.*



- Con **una jarra** puedo llenar ..... **vasos**.
- Con **un vaso** puedo llenar ..... **tazas**.
- Con **2 vasos** puedo llenar ..... **jarras**.
- Con **4 tazas** puedo llenar ..... **jarras**.
- Con **un vaso y 2 tazas** puedo llenar ..... **jarras**.