

SD Muhammadiyah 2 Alternatif Kota Magelang
PENILAIAN HARIAN MATEMATIKA

Materi: Tema 6 Subtema 1-4 Satuan Berat

Nama:

Kelas:

NILAI

KD 3.6 = menjelaskan dan menentukan panjang (termasuk jarak), berat, dan waktu dalam satuan baku yang berkaitan dengan kehidupan sehari-hari.**A. Pilihlah jawaban yang tepat dengan memberi tanda silang (X) pada huruf A, B atau C!**

1. Perhatikan gambar timbangan di bawah ini!



Nama dan fungsi timbangan yang sesuai adalah

- A. timbangan duduk, untuk mengukur beras 25 kilogram
- B. timbangan dapur, untuk mengukur gula 200 gram
- C. timbangan mekanik, untuk mengukur berat badan

2. Berat sebuah buku tulis yang tepat adalah

- A. 100 gram
- B. 1 gram
- C. 10 kilogram

3. Perhatikan gambar di bawah ini!



Berat jagung yang ditimbang adalah

- A. 1 kilogram
- B. 2 gram
- C. 2 kilogram

4. Timbangan yang sesuai untuk mengukur telur 1 kantong adalah


A.




B.



C.



5. Berat sebuah mangga adalah 500 gram. Berat sebuah nanas adalah 200 gram. Simbol perbandingan yang tepat adalah



...



A. <

B. >

C. =

6. Berat 1 kotak minuman kemasan ukuran besar adalah 3.000 gram. Berat kotak dalam satuan kilogram adalah


- A. 300 kg
- B. 30 kg
- C. 3 kg

7. Hasil yang tepat pada konversi satuan berat dibawah ini adalah

12 kilogram = ... gram







- A. 12.000
- B. 120
- C. 1.200

8. Seekor domba memiliki berat 45 kg. Kalimat matematika yang tepat untuk ilustrasi di bawah ini adalah

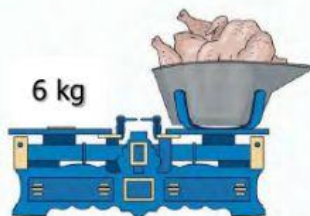


- A. $45 + 45 + 45 = 125$
B. $45 + 45 + 45 = 130$
C. $45 + 45 + 45 = 135$

Perhatikan tabel berikut untuk nomor 9 dan 10!

<p>1. rambutan 2 kg</p> 	<p>a.</p> 
<p>2. beras 5 kg</p> 	<p>b.</p> 
<p>3. gula 200 gr</p> 	<p>c.</p> 

9. Benda yang paling berat adalah ...
A. rambutan B. beras C. gula
10. Pasangan benda dan timbangan yang tepat adalah
A. 1-c, 2-b, 3-a
B. 1-a, 2-b, 3-c
C. 1-b, 2-c, 3-a
11. Perhatikan gambar di bawah ini!



Berat 2 ekor ayam boiler adalah 6 kg. Kelompok anak timbangan berikut yang sesuai dengan hasil timban di atas adalah

-

12. Timbangan meja cocok digunakan untuk menimbang
A. terigu sekilo B. beras sekarung C. pisang setandan

-

A. $>$ B. $<$ C. $=$

16. Berat satu ikat kelengkeng adalah 300 gram. Berat 4 ikat kelengkeng adalah ... ons.

satu ikat kelengkeng = ... gram
4 ikat kelengkeng = 4 x ... gram
= ... gram = ... ons.

17. Sebuah mobil mainan beratnya 20 ons. Berat mainan dalam satuan kilogram dan gram adalah

20 ons = ... kilogram = ... gram.

- Jawab :

Keranjang 3 = ...

Rubah ke satuan kg = ... + ... + ...

= ... kg

Jadi, berat semua kentang yang dipanen Bu Sari adalah ... kg

- Jawab :

Ember 3 = ...

Rubah ke satuan kg = ...

Jadi, berat pasir yang sudah rangga ambil adalah ... kg.

20. Bibi membeli bubuk cokelat sebanyak 4 plastik. Maing-masing plastik beratnya 3 ons.

Berapa gram banyak bubuk cokelat yang dibeli bibi?

Jawab :

4 plastik, masing-masing 3 ons.

Kalimat matematika = ... x ...

= ... ons

Rubah satuan ke gram = ... gram

Jadi, banyak bubuk cokelat yang dibeli bibi adalah ... gram.