




NUMERACIÓN HASTA EL 29

Escribe los siguientes números:

| | |
|---|--|
|  | |
|  | |
|  | |

Pon las unidades y decenas que tienen estos números, como en el ejemplo:

| Número | Decenas | Unidades | Descomposición |
|--------|---------|----------|----------------|
| 21 | 2 | 1 | $20 + 1$ |
| 28 | | | |
| 25 | | | |
| 23 | | | |

Arrastra para ordenar estos números de menor a mayor

| | | | | |
|----|----|----|---|----|
| 26 | 19 | 21 | 8 | 28 |
| | | | | |