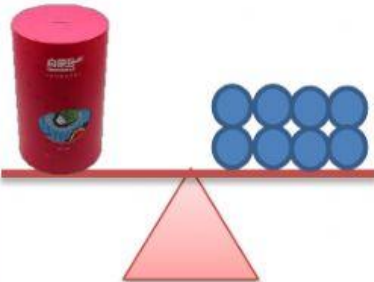
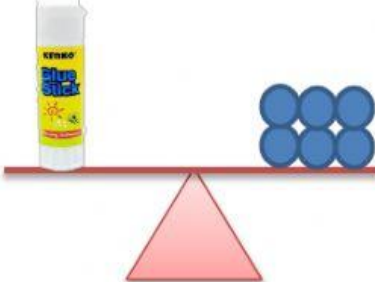
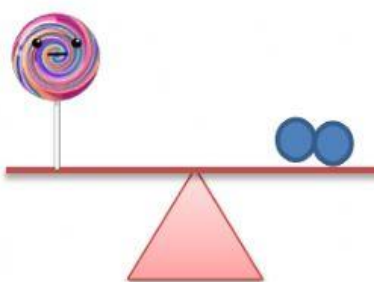


Isilah kotak dengan berat hasil penimbangan.

Lalu, urutkan nama benda dari yang paling berat.

1

|   |  |   |
|---|--|---|
|  |  |  |
| 1 celengan = <input type="text"/> kelereng  | 1 lem = <input type="text"/> kelereng  | 1 permen = <input type="text"/> kelereng.   |

a. Benda yang paling berat adalah \_\_\_\_\_

b. Benda yang paling ringan adalah \_\_\_\_\_

2

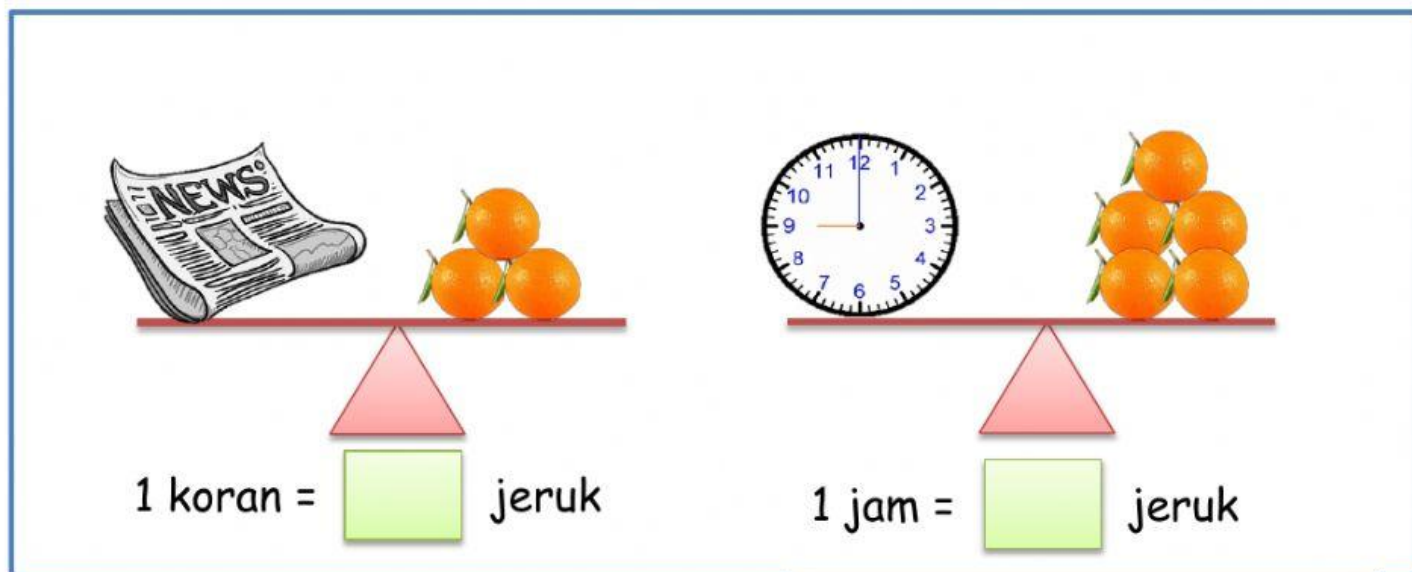
permen

8

celengan

6

2.



Benda yang paling berat adalah \_\_\_\_\_

Benda yang paling ringan adalah \_\_\_\_\_

Kalimat perbandingan yang benar adalah

---

5

koran

Koran lebih ringan dari jam

3

jam