

## NHÂN VỚI 2

### BÀI TẬP TỰ LUYỆN

1. Tích  $2 \times 6$  được viết thành tổng là:

A.  $2+2+2+2+2+2$

B.  $2+2+2+2+2$

C.  $2+2+2+2$

D.  $6+6+6+6+6+6$

2. Kết quả của phép tính  $2 \times 8$  là: .....

3. “1 đôi dưa có 2 chiếc dưa. 5 đôi dưa có ..... chiếc dưa.”

Viết phép tính thích hợp để tìm kết quả điền vào chỗ trống trong câu trên.

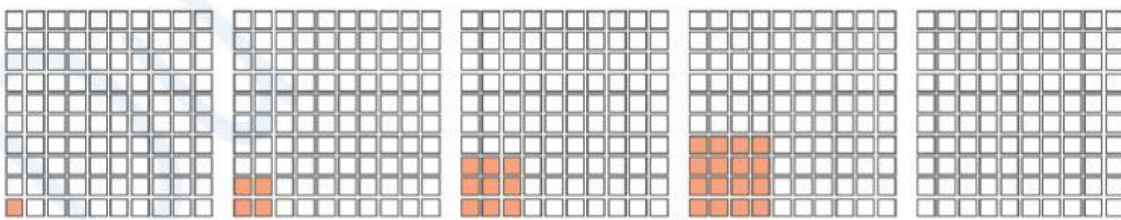
.....

.....

4. Tìm quy luật rồi điền số thích hợp điền vào chỗ trống.



5. Xác định quy luật rồi tô màu phù hợp vào hình tiếp theo.



6. Điền số thích hợp vào hình sau.

Biết ô giống nhau thì số giống nhau.



7. Gấp đôi của 36 là: .....

8. Một nửa thùng cam nặng 20 kg. Cả thùng cam nặng bao nhiêu ki-lô-gam ?

Trả lời: .....

9. Tích của phép tính nhân có thừa số thứ nhất là 2, thừa số thứ hai là số lớn nhất có 1 chữ số là: .....

10. Một chiếc bút chì có giá 5 xu. Một cục tẩy có giá 8 xu.

Nếu em mua 2 chiếc bút chì và 1 cục tẩy thì phải trả số tiền là:

- A. 10 xu.                      B. 13 xu.                      C. 18 xu.                      D. 21 xu.

**Phần tự luận**

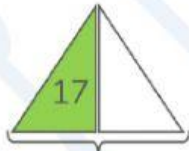
1. Viết thành phép tính nhân.

- a)  $2 + 2 + 2 + 2 + 2 + 2 + 2 + 2 = 2 \times \dots$                       b)  $2 + 2 + 2 + 2 + 2 + 2 + 2 + 2 = 2 \times \dots$   
 c)  $2 \times 5 + 2 \times 3 = 2 \times \dots$     d)  $2 \times 10 + 2 \times 2 = 2 \times \dots$   
 e)  $2 \times 10 - 2 \times 4 = 2 \times \dots$

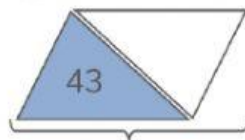
2. Viết phép nhân thích hợp để tìm số điền vào ô trống theo mẫu.



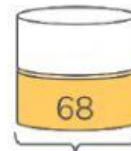
$25 + 25 = 50$   
 $25 \times 2 = 50$



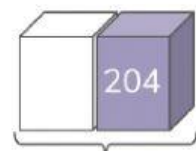
.....  
 .....



.....  
 .....



.....  
 .....



.....  
 .....

3. Trong một bếp ăn tập thể, người đầu bếp dự tính nấu 2 lon gạo thì đủ cho 5 người ăn.

Hỏi:



a) Nấu 4 lon gạo đủ cho bao nhiêu người ăn ? .....



b) Nấu 8 lon gạo đủ cho bao nhiêu người ăn ? .....



c) Nếu có 10 người ăn thì cần nấu bao nhiêu lon gạo ? .....



d) Nếu có 25 người ăn thì cần nấu bao nhiêu lon gạo ? .....



4. Em năm nay 7 tuổi. Tuổi của anh gấp đôi tuổi của em.

a) Em hãy vẽ sơ đồ minh họa tuổi của hai anh em.

b) Năm nay, anh bao nhiêu tuổi ?

(Nếu có thể, em hãy giải bằng 2 cách)

.....  
.....  
.....

5. Xe tải trong 1 lần chở hàng chở được 50 bao xi măng.

Trong kho vật liệu xây dựng có một số bao xi măng. Sau khi xe tải chở 2 lần như vậy thì không còn bao xi măng nào ở trong kho. Hỏi ban đầu trong kho có bao nhiêu bao xi măng ?

Em hãy giải bằng 2 cách.

.....  
.....