



ATIVIDADE INTERATIVA- EMMS

DATA: \_\_\_\_/\_\_\_\_/\_\_\_\_

PROFESSORA: **LEILANE LOPES**

TURMA: **INFANTIL V-C**

DIGITE NO ESPAÇO ABAIXO SEU NOME DO JEITO QUE VOCÊ SOUBER.



ASSISTA AO VÍDEO E RESPONDA AS QUESTÕES.


ORGANIZE OS NÚMEROS E MONTE O QUEBRA-CABEÇA  
DO SHOW DA LUNA!




ORGANIZE AQUI

ORDEM CORRETA: 1- 2-3-4-5-6-7-8-9-10


SELECIONE O NÚMERO CORRETO DE ACORDO COM AS QUANTIDADES.




6 5 4




3 2 1




2 1 3




5 4 3




6 5 7



1 4 3




















8 7 9














6 7 8

LIGUE AS MÃOZINHAS AOS NÚMEROS QUE REPRESENTAM SUAS QUANTIDADES.

	0	
	1	
	2	
	3	
	4	
	5	
	6	
	7	
	8	
	9	
	10	



QUAL É O NÚMERO? OUÇA E DIGITE.

					
<input type="text"/>	<input type="text"/>	<input type="text"/>	<input type="text"/>	<input type="text"/>	<input type="text"/>
					
<input type="text"/>	<input type="text"/>	<input type="text"/>	<input type="text"/>	<input type="text"/>	