







الدرس ٤١: التطبيق

الإرشادات: حدد عدد أضلاع ورؤوس كل شكل.
ارسم نجمة على جميع الأشكال الرباعية.

الخواص		الاسم	الشكل
عدد الرؤوس	عدد الأضلاع		
		مثلث	
		مربع	
		مستطيل	
		شبه المنحرف	
		معيّن	
		خماسي الأضلاع	
		سداسي الأضلاع	